

## Lectura 14

### *La vida de Lazarillo de Tormes y de sus fortunas y adversidades*

[https://www.cervantesvirtual.com/obra-visor/la-vida-de-lazarillo-de-tormes-y-de-sus-fortunas-y-adversidades--0/html/fedb2f54-82b1-11df-acc7-002185ce6064\\_2.html#l\\_0](https://www.cervantesvirtual.com/obra-visor/la-vida-de-lazarillo-de-tormes-y-de-sus-fortunas-y-adversidades--0/html/fedb2f54-82b1-11df-acc7-002185ce6064_2.html#l_0)

y que ella confiaba en Dios no saldría peor hombre que mi padre, y ...  
que le rogaba me tratase bien y mirase por mí, pues era huérfano. Él ...  
respondió que así lo haría y que me recibía, no por mozo, sino por hijo. ...  
Y así le comencé a servir y adestrar a mi nuevo y viejo amo. ...

Como estuvimos en Salamanca algunos días, pareciéndole a mi amo ...  
que no era la ganancia a su contento, determinó irse de allí; y cuando ...  
nos hubimos de partir, yo fui a ver a mi madre, y, ambos llorando, me ...  
dio su bendición y dijo: ...

-Hijo, ya sé que no te veré más. Procura de ser bueno, y Dios te guíe. ...  
Criado te he y con buen amo te he puesto; válete por ti. ...

Y así me fui para mi amo, que esperándome estaba. ...

Salimos de Salamanca, y, llegando a la puente, está a la entrada de ...  
ella un animal de piedra, que casi tiene forma de toro, y el ciego ...  
mandóme que llegase cerca del animal, y, allí puesto, me dijo: ...

-Lázaro, llega el oído a este toro y oirás gran ruido dentro de él. ...

Yo simplemente llegué, creyendo ser así. Y como sintió que tenía la ...  
cabeza par de la piedra, afirmó recio la mano y diome una gran ...  
calabazada en el diablo del toro, ../.. ...

Repase atentamente la lectura; después, escriba a la derecha cuántas ...  
veces aparece la letra j (jota) en cada línea y súmelas. ....

1. Sume de 4 en 4 del número 457 al 661.

---



---



---



---

2. Escriba debajo que tienen en común todas las parejas de números. (La relación no es numérica).

10 / 2	4 / 0	3 / 30	6 / 7	11 / 8
8 / 80	5 / 40	9 / 90	12 / 10	32 / 13

---

3. Observe el cuadro y responda las preguntas.

¿Qué letras mayúsculas no se repiten? \_\_\_\_\_.

¿Qué letras minúsculas se repiten? \_\_\_\_\_.

¿Qué números mayores que 29 aparecen solo una vez? \_\_\_\_\_.

V	C	10	d	36	D	3	i	33	t	w	53	E
q	44	J	r	16	e	32	51	F	14	54	G	19
43	s	41	81	E	61	x	11	C	f	J	72	c
D	20	72	G	8	y	F	u	42	73	58	6	35
51	t	12	C	33	g	53	K	52	G	j	43	L
h	5	F	35	B	81	r	36	k	21	z	D	17
L	18	55	n	9	H	15	c	7	o	m	61	44
73	H	42	K	55	m	54	v	22	J	52	4	P

4. Escriba los números del 1 al 8 para que las operaciones se cumplan (los círculos son pares y los cuadrados impares). Hay dos soluciones.

$\square \text{ -- } \square = \bigcirc$ $\text{--} \qquad \qquad \qquad +$ $\bigcirc \qquad \qquad \qquad \bigcirc$ $= \qquad \qquad \qquad =$ $\square + \square = \bigcirc$	$\square \text{ -- } \square = \bigcirc$ $\text{--} \qquad \qquad \qquad +$ $\bigcirc \qquad \qquad \qquad \bigcirc$ $= \qquad \qquad \qquad =$ $\square + \square = \bigcirc$
--	--

5. Escriba en los cuadros los signos > mayor que, < menor que, o = igual que, según corresponda.

58 + 73	<input style="width: 100%;" type="text"/>	250 : 2
217 - 58	<input style="width: 100%;" type="text"/>	53 x 3
16 + 82	<input style="width: 100%;" type="text"/>	81 + 22
180 : 4	<input style="width: 100%;" type="text"/>	49 - 8
83 - 35	<input style="width: 100%;" type="text"/>	26 + 22
19 x 7	<input style="width: 100%;" type="text"/>	168 - 35
141 + 55	<input style="width: 100%;" type="text"/>	48 x 4
88 - 77	<input style="width: 100%;" type="text"/>	99 + 87
58 + 35	<input style="width: 100%;" type="text"/>	279 : 3
189 : 9	<input style="width: 100%;" type="text"/>	126 : 6
26 x 8	<input style="width: 100%;" type="text"/>	71 + 142

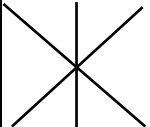



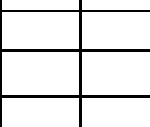

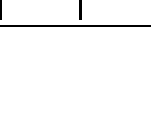

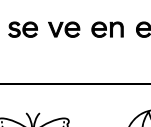

6. Anote a la derecha el número de la palabra de la izquierda asociada en cada caso.

1	Escoba	Pie	—
2	Río	Suelo	—
3	Pelo	Higiene	—
4	Zapato	Polvo	—
5	Collar	Horas	—
6	Plumero	Letras	—
7	Mano	Agua	—
8	Jabón	Imagen	—
9	Palabra	Peine	—
10	Memoria	Sábana	—
11	Recuerdo	Cuchara	—
12	Sopa	Dedos	—
13	Reloj	Memoria	—
14	Cama	Cuello	—

7. Subraye las operaciones cuyo resultado sea 45.

$81 - 47$	$91 - 46$	$13 + 40$	$89 - 32$	$27 + 18$
$58 - 13$	$32 + 16$	$86 : 2$	$24 + 21$	$217 : 7$
$30 + 16$	$83 - 27$	$15 \times 3$	$29 + 15$	$27 \times 2$
$5 \times 16$	$135 : 3$	$67 - 21$	$74 - 29$	$26 + 21$
$90 - 45$	$122 : 4$	$36 \times 2$	$99 : 51$	$5 \times 9$

8. Trace las líneas que faltan.

<p>Dibuje en el cuadro vacío de cada fila (de izquierda a derecha) la figura que resulta al superponer las dos imágenes previas.</p>				
				
				
				
				

9. Descubra la figura del cuadro superior que no se ve en el inferior.