

Lectura 13

La vida de Lazarillo de Tormes y de sus fortunas y adversidades

https://www.cervantesvirtual.com/obra-visor/la-vida-de-lazarillo-de-tormes-y-de-sus-fortunas-y-adversidades--0/html/fedb2f54-82b1-11df-acc7-002185ce6064_2.html#l_0

Y probósele cuanto digo, y aún más; porque a mí con amenazas me ...
preguntaban, y, como niño, respondía y descubría cuanto sabía con ...
miedo: hasta ciertas herraduras que por mandado de mi madre a un ...
herrero vendí. ...

Al triste de mi padrastro azotaron y pringaron, y a mi madre pusieron ...
pena por justicia, sobre el acostumbrado centenario, que en casa del ...
sobredicho comendador no entrase ni al lastimado Zaide en la suya ...
acogiese. ...

Por no echar la soga tras el caldero, la triste se esforzó y cumplió la ...
sentencia. Y, por evitar peligro y quitarse de malas lenguas, se fue a servir ...
a los que al presente vivían en el mesón de la Solana; y allí, padeciendo ...
mil importunidades, se acabó de criar mi hermanico hasta que supo ...
andar, y a mí hasta ser buen mozuelo, que iba a los huéspedes por vino ...
y candelas y por lo demás que me mandaban. ...

En este tiempo vino a posar al mesón un ciego, el cual, pareciéndole ...
que yo sería para adestrarle, me pidió a mi madre, y ella me encomendó ...
a él, diciéndole cómo era hijo de un buen hombre, el cual, por ensalzar ...
la fe, había muerto en la de los Gelves,/.. ...

Repase atentamente la lectura; después, escriba a la derecha cuántas ...
veces aparece la letra h (hache) en cada línea y súmelas.

1. Complete las frases con los adjetivos adecuados sin que se repitan.

El verano es más _____ que la primavera.
 La comedia es menos _____ que el drama.
 Un golpe es más _____ que un roce.
 Una cartulina azul es menos _____ que el cielo.
 Un traje es más _____ que un chándal.
 Una flauta es menos _____ que un tambor.
 Trabajar es más _____ que vagar.
 Ser avaro es menos _____ que ser generoso.
 El sol es más _____ que la luna.
 Un anciano es menos _____ que un joven.

2. Subraye las operaciones cuyo resultado sea 44.














98 -- 41	89 -- 45	53 -- 10	96 -- 32	56 - 12
68 -- 24	82 -- 46	86 : 2	82 -- 57	37 + 21
70 -- 16	53 -- 26	11 x 4	73 -- 16	57 -- 11
65 -- 28	132 : 3	37 -- 3	77 -- 33	33 + 21
95 -- 51	62 -- 12	15 + 29	99 -- 65	220 : 5
82 -- 46	82 - 38	62 -- 46	57 - 13	82 -- 46










3. Escriba las horas capicúas que aparecen entre las 11:30 y las 20:15, continuando el ejemplo mostrado en el primer reloj.










<u>12:21</u>	_____	_____	_____	_____
--------------	-------	-------	-------	-------










4. Sustituya los cuadros por la letra indicada y escriba un refrán.

_____.

												
O	E	S	C	R	D	M	U	P	N	L	B	I

								
---	---	---	---	---	---	--	---	---

								
---	---	---	---	---	---	--	---	---

								
---	---	---	---	---	---	--	---	---

5. Ordene a la derecha la secuencia de actos adecuadamente. .

Ya casi está	1° _____
Mañana lo acabo	2° _____
Coloreo despacio	3° _____
Llego a la tienda	4° _____
Compro el material	5° _____
Me pongo el abrigo	6° _____
Preparo el papel	7° _____
Pero son las ocho	8° _____
Salgo a la calle	9° _____
Elijo los colores	10° _____

6. Descubra cuatro letras distintas del resto.

CCCCCCCCCOCCC
 CCCCCCCCCCCCCC
 CCCCCCOCCCCC
 CCCCCCCCCCCCCC
 CCCCCCCCCCCCCC
 CCCCCCCCCCCCCC
 CCCCCCCCCCCCCC
 CCOCCCCCCCCC
 CCCCCCCCCCCCCC
 CCCCCCCCCCCCCC
 CCCCCCCCCCCCCC
 CCCCCCCCCCOCC
 CCCCCCCCCCCCCC

7. ¿Qué números del cuadro, entre 343 y 455, son divisibles por 7?

335	122	350	358	463	275	442	208	372	250	329
441	321	268	430	529	164	482	378	525	304	267
477	125	467	427	315	265	126	501	124	270	490
351	266	168	123	503	392	532	336	172	427	355
502	406	302	484	460	419	353	399	332	537	471
127	365	189	303	357	217	140	269	504	489	112

8. Escriba nombres de frutas que comiencen por las letras indicadas en cada línea.

C _____

M _____

P _____

9. Señale en cada fila el dibujo que no se corresponde con los demás.

1.								
2.								
3.								
4.								
5.								