

Lectura 4

¿Dónde está mi cabeza? (I)

Benito Pérez Galdós (1843 – 1920)

<https://www.cervantesvirtual.com/nd/ark:/59851/bmcc24s0>

Antes de despertar, ofrecióse a mi espíritu el horrible caso en forma de angustiosa sospecha, como una tristeza hondísima, farsa cruel de mis endiablados nervios que suelen desmandarse con trágico humorismo. Desperté; no osaba moverme; no tenía valor para reconocermé y pedir a los sentidos la certificación material de lo que ya tenía en mi alma todo el valor del conocimiento... Por fin, más pudo la curiosidad que el terror; alargué mi mano, me toqué, palpé... Imposible exponer mi angustia cuando pasé la mano de un hombro a otro sin tropezar en nada... El espanto me impedía tocar la parte, no diré dolorida, pues no sentía dolor alguno... la parte que aquella increíble mutilación dejaba al descubierto... Por fin, apliqué mis dedos a la vértebra cortada como un troncho de col; palpé los músculos, los tendones, los coágulos de sangre, todo seco, insensible, tendiendo a endurecerse ya, como espesa papilla que al contacto del aire se acartona...

Lea atentamente la lectura y conteste las siguientes preguntas.

1. ¿Cómo se titula la lectura? _____
2. ¿Quién es el autor? _____
3. ¿En qué siglo tuvo lugar su nacimiento? _____
4. ¿Y su muerte? _____
5. Escriba las seis últimas palabras del texto _____

1. Forme dos palabras distintas con las letras contenidas en cada cuadro.

P R O A	U L A B	A M O N	M L O O	T A A R	I O N V	M G O A
_____	_____	_____	_____	_____	_____	_____
_____	_____	_____	_____	_____	_____	_____
T L A A	L A O S	U L A N	A C O S	G L A O	C A A L	E R A P
_____	_____	_____	_____	_____	_____	_____
_____	_____	_____	_____	_____	_____	_____

2. Sombree los rectángulos con igual número de cuadros. _____

A				B								C			
								D				E			
		F			G										
									H			J			
															I
				K											
								L		M					
															N

3. Escriba debajo las cifras que contengan el 6 del 321 al 375.


























4. Tres de las cuatro cantidades inferiores forman parte de una resta. Ordénalas para que se cumpla la operación.

<u>1 2 3 4 5 6 7 8</u>	<u>9 8 7 6 5 4 3 2</u>	--	- - - - -
<u>4 5 2 3 9 8 6 0</u>	<u>8 6 4 1 9 7 5 4</u>	--	- - - - -

5. En las columnas 1ª y 2ª de la izquierda están las letras desordenadas de dos palabras relacionadas entre sí. Ordene ambas y escríbalas a la derecha.

NOTBO	AJOL	Botón / Ojal
EVARON	ARLOC	_____ / _____
SEJANOP	BNOAJ	_____ / _____
JAORAP	MULPAS	_____ / _____
GERADARE	TAMESCA	_____ / _____
DAMARE	BLARO	_____ / _____
ANGIPA	LOBIR	_____ / _____
ACEHMINE	GUFOE	_____ / _____

6. Descubra en cada fila la muestra idéntica al modelo de la izquierda.


7. Señale las operaciones cuyo resultado sea 457.

$301 + 158$	$268 + 189$	$156 + 291$	$243 + 135$	$156 + 301$
$245 + 152$	$165 + 288$	$323 + 134$	$177 + 250$	$324 + 149$
$320 + 137$	$291 + 156$	$311 + 142$	$202 + 255$	$261 + 156$
$258 + 116$	$244 + 213$	$294 + 256$	$106 + 247$	$276 + 181$

8. Señale las semejanzas y diferencias en cada caso.

	<u>SEMEJANZAS</u>	<u>DIFERENCIAS</u>
Perro / Lobo	_____	_____ / _____
Sol / Luna	_____	_____ / _____
Cuchara / Tenedor	_____	_____ / _____
Silla / Cama	_____	_____ / _____

9. Anote debajo de cada dibujo cinco palabras referidas al mismo.

				
_____	_____	_____	_____	_____
_____	_____	_____	_____	_____
_____	_____	_____	_____	_____
_____	_____	_____	_____	_____
_____	_____	_____	_____	_____