

Lectura 24

Pesadillas infantiles

Fernando Iwasaki Cauti (Lima, 1961)

<https://www.cervantesvirtual.com/nd/ark:/59851/bmc7w6x2>

Escribir sobre los sueños no siempre es un ejercicio solitario, ya que puede haber otro soñando tu sueño o en el mejor de los casos soñando contigo. Las pesadillas descritas en la columna de ayer, sirvieron para que otras personas me hablaran de las suyas y comprender de golpe que compartimos cariño y temores semejantes. En *Las mil y una noches* figura un clásico relato de "Los dos que soñaron", donde la pesadilla de uno fue el sueño de otro.

En *El agua y los sueños* y *El aire y los sueños*, Gastón Bachelard penetra en las ambigüedades de lo imaginario y así explica cómo ambos elementos – aire y agua - pueden tener valencias opuestas en el inconsciente personal. El hermoso sueño de volar y nadar se puede convertir en la pesadilla de la caída o el ahogo. ¿Quién no ha soñado que cae vertiginosamente y se despierta sobresaltado por la angustia?

Sin embargo, aunque muchos soñamos que volamos, no siempre es posible volar por donde uno quiere, ni siquiera en sueños. Es decir, los hay que vuelan sólo por la ciudad, sólo por el barrio o sólo por la casa, mas nunca a cielo abierto y a voluntad ../..

Repase atentamente la lectura; después, escriba a la derecha cuántas veces aparece la letra n (ene) en cada línea y súmelas.

1. Marque los dígitos que van del 50 al 90 siguiendo un orden numérico.

53	55	56	53	56	57	55	90	89	88	86	84
52	54	54	52	54	55	52	74	79	88	89	79
53	57	55	51	63	64	60	80	81	82	87	86
52	54	56	57	60	59	50	61	63	62	82	85
51	53	55	57	58	52	54	62	70	74	79	84
50	51	52	56	59	51	63	63	65	81	82	83
49	50	48	49	63	60	61	64	65	89	81	90
48	52	67	65	69	68	65	65	81	80	79	89
68	70	69	68	66	66	75	74	73	79	74	88
70	71	78	79	67	65	81	79	78	75	87	82
48	69	72	71	70	74	79	77	80	86	84	86
67	65	70	73	74	75	76	80	82	83	79	85

2. Encuentre la definición de cada palabra y con la inicial de todas ellas escriba el nombre de una flor. _____

Que está al final de una línea, serie o sucesión	Ú _____
Contratiempo, daño o perjuicio imprevisto	P _____
Cada uno de los movimientos del corazón	L _____
Día que precede al de hoy	A _____
Conjunto de los habitantes de un país	N _____
Decisión y perseverancia en algo	T _____
Insigne, célebre	I _____



3 ¿Cuántos son los números que no se repiten? _____

789	792	801	788	798	807	794	790	797
785	798	800	792	810	802	790	786	796
797	809	803	793	805	796	799	806	804
791	805	791	811	799	803	808	795	793
801	802	795	806	794	787	789	800	804

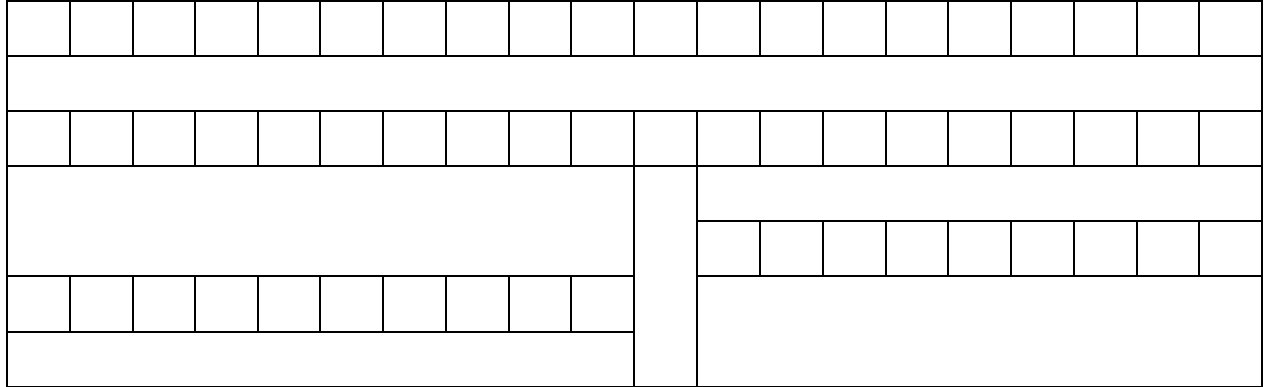
4. Complete la poesía *Volverán las oscuras golondrinas*, de Gustavo Adolfo Bécquer, con las palabras escritas a la derecha.

<p>Volverán las oscuras _____ en tu _____ sus nidos a colgar, y otra vez con el ala a sus _____ jugando llamarán. Pero aquellas que el _____ refrenaban tu _____ y mi dicha a contemplar, aquellas que aprendieron nuestros _____... ¡esas... no _____!</p>	<p>nombres cristales hermosura balcón vuelo volverán golondrinas</p>
--	--

5. Copie los cuadros sombreados en la imagen de la derecha.



6. Calcule el número total de cuadros del rectángulo sabiendo que todos tienen igual medida. _____



7. Construya una frase y el nombre de su autor con las letras del cuadro sin tener en cuenta los números que aparecen.

9	E	2	7	L	5	2	1	H	3	8	O	4	M	9	4	B
3	8	R	9	6	4	E	5	2	9	S	7	A	5	1	B	9
1	1	7	O	2	5	9	N	8	3	1	O	7	2	L	3	6
9	O	7	1	E	S	6	3	5	E	4	1	N	7	8	T	5
2	8	O	6	1	4	D	2	7	9	A	8	3	S	6	4	L
A	S	5	3	C	1	6	O	3	S	4	A	S	2	9	M	7
2	7	O	N	4	6	T	2	A	8	I	G	5	3	N	9	E

_____.

8. Escriba las horas que son capicúas entre las 14:00 y las 21:30, continuando el ejemplo mostrado en el primer reloj.

14:41			
-------	--	--	--