

## Lectura 03

### *Vivir 100 años*

Vivir 100 años o más es un hecho cada vez más frecuente. En 2021, la ...  
media de la esperanza de vida en España fue de 83,7 años- Hace poco ...  
más de un siglo era de 35. Uno de cada cinco nacidos moría antes de ...  
cumplir 1 año. Y la mitad de los que sobrevivían no llegaba a los 15 años. ...  
Una sangría de vidas que ya no sucede. ...

A medida que avanza el siglo XXI, crece el número de centenarios. Una ...  
noticia de prensa reciente habla de tres mujeres que lo son. Sus nombres ...  
son Consuelo, Rafaela y Milagros. Viven en sus casas y, aunque cuentan ...  
con ayuda, gozan de un buen nivel de autonomía. ...

Quizá algún día se descubra cómo añadir vida a los años. Y es que las ...  
recetas poco creíbles son muchas. Mientras tanto, la ciencia avanza. Y los ...  
centenarios son objeto de estudio. No porque vivan más, sino porque lo ...  
hacen con menos carga de enfermedad. ...






















































Conviene recordar, no obstante, que la influencia de los genes en la ...  
salud es limitada. Oscila entre un 25 y 30%. Por ahora, lo único que cabe ...  
es tener en cuenta el peso de los estilos de vida. E intentar que el nuestro ...  
sea de los más saludables. ...

Repase atentamente la lectura; después, escriba a la derecha cuántas ...  
veces aparece la letra q (qu) en cada línea y súmelas. ...

1. Relacione las palabras de ambas columnas y añada junto al número la letra que le corresponde; después, indique su posición en la cuadrícula con una X.

	A	B	C	D	E	F	G	H	I	J					
1											1	—	Árbol	A	Luz
2											2	—	Miel	B	Niños
3											3	—	Fuente	C	Ave
4											4	—	Pelota	D	Lluvia
5											5	—	Escuela	E	Agua
6											6	—	Paraguas	F	Sombra
7											7	—	Cama	G	Juego
8											8	—	Pluma	H	Abeja
9											9	—	Lámpara	I	Música
10											10	—	Piano	J	Sueño









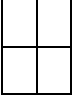



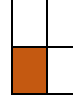
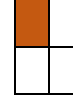


2. Sustituya las figuras por el valor correspondiente y escriba el resultado de cada suma.

 = 4																
 = 3	+				+				+				+			
 = 2		—	—	—		—	—	—		—	—	—		—	—	—
 = 1																
 = 0	+				+				+				+			
		—	—	—		—	—	—		—	—	—		—	—	—




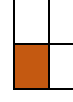


























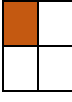





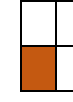


3. Dibuje a la derecha la figura inferior sin levantar el lápiz y sin pasar dos veces por la misma línea. (Hay más de una solución)



4. Sustituya los cuadros por la letra indicada y escriba una frase de Quevedo.

							
V	P	R	Q	M	N	C	U
							
O	L	E	T	I	A	F	D

										
—	—	—	—	—	—	—	—	—	—	—
										
—	—	—	—	—	—	—	—	—	—	—
										
—	—	—	—	—	—	—	—			
										
—	—	—	—	—	—	—	—	—		

5. Señale las letras de las operaciones que no son correctas. \_\_\_\_\_

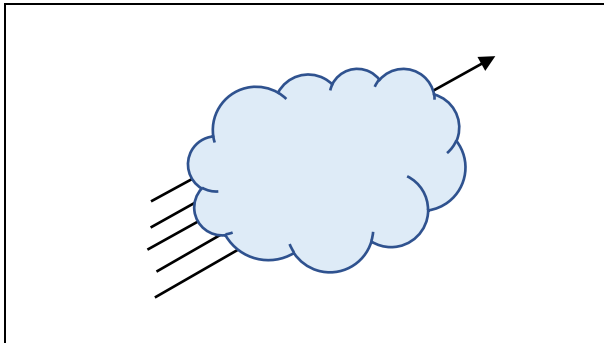
A)	50 +	52 +	54 +	56 +	58 +	60 +	62 +	64	=	466
B)	61 +	62 +	63 +	64 +	65 +	66 +	67 +	68	=	516
C)	72 +	73 +	74 +	75 +	76 +	77 +	78 +	79	=	604
D)	81 +	80 +	79 +	78 +	77 +	76 +	75 +	74	=	621
E)	72 +	71 +	70 +	69 +	68 +	67 +	66 +	65	=	547
F)	60 +	59 +	58 +	57 +	56 +	55 +	54 +	53	=	452

6. Clasifique las siguientes palabras en cuatro grupos distintos y asigne a cada uno la categoría que le corresponde.

Manzana, trigo, alcachofa, arroz, sal, melocotón, naranja, espinacas, cebada, centeno, guisantes, azafrán, acelgas, laurel, uvas y perejil

_____	_____	_____	_____
_____	_____	_____	_____
_____	_____	_____	_____
_____	_____	_____	_____

7. Utilizando solo la vista, señale la flecha tapada por la nube.



8. Ordene las letras para obtener palabras con sentido.

JATEVAN \_\_\_\_\_  
 MIORCECO \_\_\_\_\_  
 RABOZA \_\_\_\_\_  
 GETIRROS \_\_\_\_\_  
 GLODUNIT \_\_\_\_\_

9. Coloree los números diferentes a 9654, 9665, 9676, 9687 y 9698.

9676 9698 9653 9665 9686 9687 9676 9675 9665 9698  
 9699 9665 9654 9687 9676 9654 9687 9665 9698 9697  
 9698 9687 9688 9654 9664 9665 9654 9698 9676 9687  
 9677 9665 9654 9676 9698 9687 9666 9654 9655 9665