

Lectura 46

Noticias sobre mayores

Cada vez son más abundantes las noticias sobre mayores. Además, de las buenas, sin el tinte negativo que las suele acompañar. Y las últimas fechas han sido pródigas en este sentido en la ciudad de Madrid.

Los días 28 y 29 de septiembre tuvo lugar un evento de interés. En él se trató a fondo el tema de las viviendas compartidas, o cohousing, en inglés, una alternativa de vida que gana adeptos, pero con no pocos obstáculos para sacarla adelante.

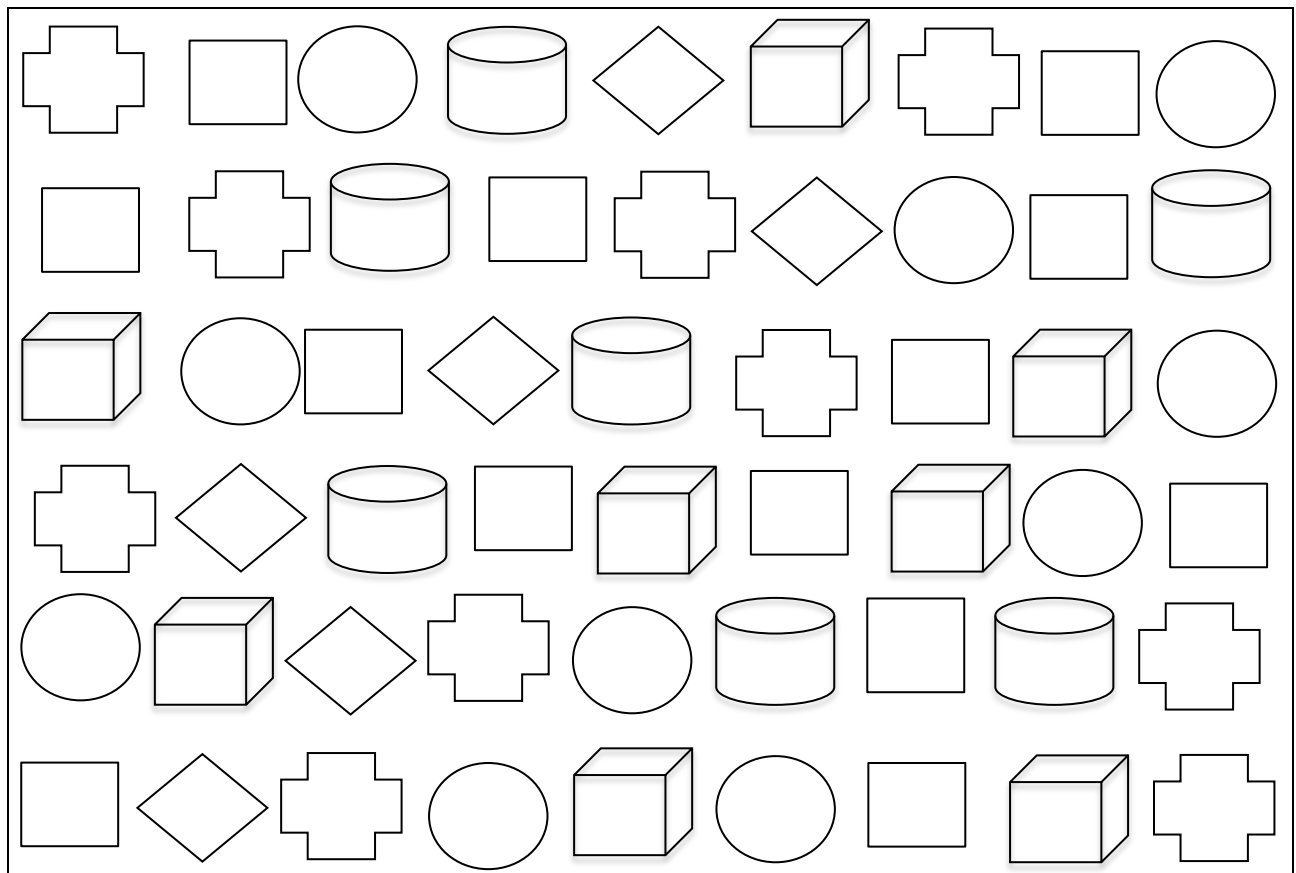
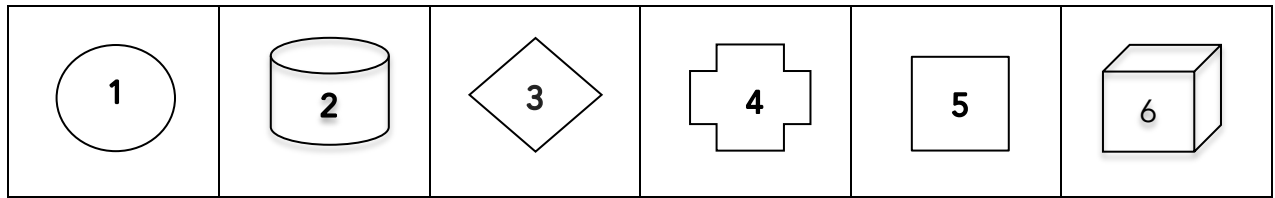
Los días 19 y 29 de octubre, se celebró el II Foro de Envejecimiento de la Fundación Edad&Vida, una entidad comprometida con el bienestar y la calidad de vida de las personas mayores.

Y el martes 25 de octubre, en el Congreso de los Diputados, se llevó a cabo el acto El reto de la longevidad. La preparación estuvo a cargo de la Unión Democrática de Pensionistas, que reúne a la mayoría de las asociaciones de este sector.

La imagen de la vejez se transforma paso a paso. Ocurre a medida que nuevas generaciones se incorporan al sector de población de mayor edad. Y el cambio sin duda es de celebrar.

Repase atentamente la lectura; después, escriba a la derecha cuántas veces aparece la letra v (uve) en cada línea y súmelas.

1. Escriba dentro de las figuras el número que les correspondes y anote debajo cuántas hay de cada clase en el cuadro inferior.



2. Sume las cifras del cuadro de 3 en 3 para obtener tríos que sumen 66.

10, 11, 12, 13, 14, 15, 16, 17, 20, 22,
23, 24, 26, 28, 32, 36, 38 y 39

3. Una las letras que se indican y averigüe el nombre de un país. _____

Sexta letra de la fila 1	1	M	A	L	E	T	A
Quinta letra de la fila 5	2	Á	S	P	E	R	O
Segunda letra de la fila 2	3	I	N	E	P	T	O
Primera letra de la fila 3	4	P	U	E	B	L	O
Cuarta letra de la fila 4	5	G	O	R	I	L	A
Tercera letra de la fila 5							

4. Escriba la solución.

Si a un tronco de madera de 20 metros se le hacen 4 cortes iguales, ¿cuánto mide cada trozo? _____

5. Complete todas las frases con adjetivos que no se repitan.

El oro es un metal más _____ que el latón.

La lluvia lenta es más _____ que la torrencial.

El papel es menos _____ que el cartón.

El trabajo es más _____ que el ocio.

Un limón es más _____ que una naranja.

El avión es más _____ que el tren.

Una montaña es más _____ que una colina.

Un litro es menos _____ que dos.

El cristal es más _____ que el plástico.

El agua es más _____ que el aceite.


El verano es más _____ que el invierno.

6. Asigne un código a cada pedido de hojas.

<u>Código</u>	<u>Cantidad</u>	<u>Color</u>
A	1 – 500	Verde / Rojo
B	500 – 1000	Amarillo / Azul
C	1 – 1000	Blanco
D	Otra cantidad	Otro color

<u>Pedido</u>	<u>Código</u>
674 hojas de papel azul	—
308 hojas de papel blanco	—
920 hojas de color morado	—
120 hojas de papel verde	—
1230 hojas de papel blanco	—







7. ¿Cuántas caras sonríen? —



8. Realice las operaciones teniendo en cuenta la equivalencia de cada letra.

Z = 5	Y = 4	X = 3	W = 2	V = 1
V + 13 + 11 + X + 12 + 20 + X + 7 + Y = —				
9 + 16 + Z + 8 + Y + 17 + 15 + W + 19 = —				
10 + V + 14 + Z + 16 + Y + 18 + X + W = —				

9. Averigüe el precio de la cebolla en función de las letras de cada verdura.

					
1 berenjena	1 calabaza	1 ajo	1 cebolla	1 patata	1 alcachofa
36 cts.	32 cts.	12 cts.	_____	24 cts.	36 cts.