

Ficha_de_trabajo_2018_semana35_As

Vivir en una residencia geriátrica

Vivir en una residencia no es un hecho inusual en personas de edad avanzada; sin embargo, en el caso de Soledad Hernández Gabriel fue una decisión tomada voluntariamente al cumplir 87 años. 8
6
3

Una degeneración macular asociada a la edad había reducido de forma progresiva su autonomía. Las dificultades de visión la obligaron a abandonar actividades que realizaba gustosa y deseaba vivir en un medio que ella consideraba protegido y alejado de riesgos. 3
3
4
1

Convencer a su única hija de que aceptara su deseo no resultó fácil; sus jóvenes nietos, chico y chica, gemelos, también rechazaban la idea. Le ofrecieron trasladarse a vivir con ellos o continuar en su propio hogar con ayuda de otra persona. 4
4
6
1

Pero Soledad tenía tres premisas irrenunciables: quería estar con gente de su edad, contar con ayuda médica y no entorpecer el ritmo de vida de los suyos. Aunque fue una medida difícil de aceptar, tras insistir durante meses, la firmeza de Soledad terminó persuadiendo a toda la familia. 5
4
4
2

Repase atentamente la lectura; escriba a la derecha cuántas veces aparece la letra N (ene) en cada línea y súmelas después. 58


































































Ficha_de_trabajo_2018_semana35_Bs

Subraye cada una de estas palabra e indique cuántas veces aparece.

CLARO <u>6</u>	CORAL <u>5</u>	CALOR <u>8</u>	COLAR <u>7</u>
----------------	----------------	----------------	----------------

L A R C O R A L O C A L O R L A C O L A R
 C R O L A C A L O R L C L A R O L A R C A
 C L A R O C O L A R C A L R O R C O R A L
 C O L A R O L C O R A L C A L O R L A C O
 R A C A L O R O L C L A R O C O L A R A O
 L C O R A L O R C O L A R L C L A R O L O
 A C A R L C A L O R C O R L A R C O L A R
 L O A C L A R O L C A L O R R C A O L R A
 O A L C A C A L O R L C O L A R L A R O L
 C O R A L C A R O L C A L O R O C L A R O

Rellene los espacios vacíos en cada fila con la figura que complete la serie inicial.

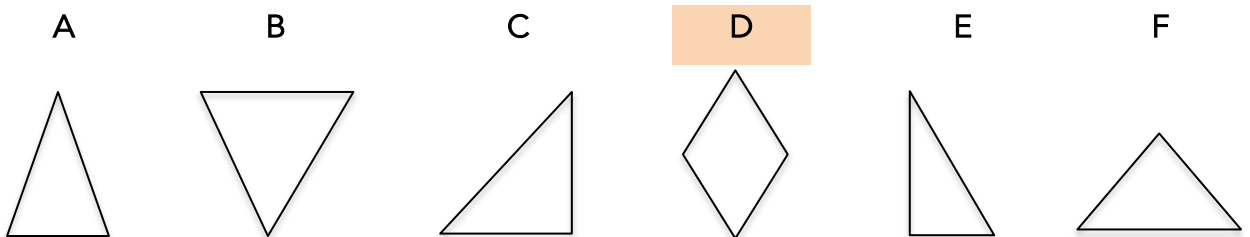
												
												
												
												
												

Ficha_de_trabajo_2018_semana35_Cs

Complete las siguientes analogías.

Guitarra es a cuerdas como piano es a teclasPino es a piña como vid es a uvaSuelo es a techo como abajo es a arribaLápiz es a cuaderno como tiza es a pizarraHijo es a padre como nieto es a abueloSol es a día como estrella es a nochePaloma es a paz como arma es a guerraGato es a ratón como zorro es a gallinaÁngel es a bien como demonio es a malLlanto es a tristeza como risa es a alegríaAbeja es a colmena como oveja es a rebaño

Elija el dibujo que no pertenece al grupo.



El reloj marca ahora las 8 horas y 10 minutos.

¿Qué hora señalará dentro de 4 horas y 35 minutos?

La una menos cuarto o 12 horas y 45 minutos.

Ficha_de_trabajo_2018_semana35_Ds

Coloree dos cuadros cuya suma dé como resultado 31. Añada después la cifra necesaria para que la suma de los cuatro cuadros juntos sea 70.

19	20	9	22	<u>21</u>	18	14	<u>22</u>	24	11
11	<u>20</u>	21	<u>18</u>	15	16	17	17	7	<u>28</u>
22	9	23	9	22	10	<u>23</u>	18	7	<u>16</u>
<u>24</u>	15	8	<u>30</u>	21	<u>17</u>	13	16	23	24
26	23	<u>25</u>	14	19	<u>14</u>	<u>27</u>	12	27	<u>15</u>
8	<u>13</u>	18	13	12	25	5	26	24	4

¿Cuántas veces se repite cada tipo de automóvil?



6



4



5



6



7

