

Ficha_de_trabajo_2018_semana35_A

Vivir en una residencia geriátrica

Vivir en una residencia no es un hecho inusual en personas de edad avanzada; sin embargo, en el caso de Soledad Hernández Gabriel fue una decisión tomada voluntariamente al cumplir 87 años.

Una degeneración macular asociada a la edad había reducido de forma progresiva su autonomía. Las dificultades de visión la obligaron a abandonar actividades que realizaba gustosa y deseaba vivir en un medio que ella consideraba protegido y alejado de riesgos.

Convencer a su única hija de que aceptara su deseo no resultó fácil; sus jóvenes nietos, chico y chica, gemelos, también rechazaban la idea. Le ofrecieron trasladarse a vivir con ellos o continuar en su propio hogar con ayuda de otra persona.

Pero Soledad tenía tres premisas irrenunciables: quería estar con gente de su edad, contar con ayuda médica y no entorpecer el ritmo de vida de los suyos. Aunque fue una medida difícil de aceptar, tras insistir durante meses, la firmeza de Soledad terminó persuadiendo a toda la familia.

Repase atentamente la lectura; escriba a la derecha cuántas veces aparece la letra N (ene) en cada línea y súmelas después.














































Ficha_de_trabajo_2018_semana35_B

Subraye cada una de estas palabras e indique cuántas veces aparece.

CLARO _	CORAL _	CALOR _	COLAR _
---------	---------	---------	---------

L	A	R	C	O	R	A	L	O	C	A	L	O	R	L	A	C	O	L	A	R
C	R	O	L	A	C	A	L	O	R	L	C	L	A	R	O	L	A	R	C	A
C	L	A	R	O	C	O	L	A	R	C	A	L	R	O	R	C	O	R	A	L
C	O	L	A	R	O	L	C	O	R	A	L	C	A	L	O	R	L	A	C	O
R	A	C	A	L	O	R	O	L	C	L	A	R	O	C	O	L	A	R	A	O
L	C	O	R	A	L	O	R	C	O	L	A	R	L	C	L	A	R	O	L	O
A	C	A	R	L	C	A	L	O	R	C	O	R	L	A	R	C	O	L	A	R
L	O	A	C	L	A	R	O	L	C	A	L	O	R	R	C	A	O	L	R	A
O	A	L	C	A	C	A	L	O	R	L	C	O	L	A	R	L	A	R	O	L
C	O	R	A	L	C	A	R	O	L	C	A	L	O	R	O	C	L	A	R	O

Rellene los espacios vacíos en cada fila con la figura que complete la serie inicial.

					—			—				—
		—		—		—			—		—	
	—				—			—				—
—			—				—			—		
	—			—				—			—	

Ficha_de_trabajo_2018_semana35_C

Complete las siguientes analogías.

Guitarra es a cuerdas como piano es a _____

Pino es a piña como vid es a _____

Suelo es a techo como abajo es a _____

Lápiz es a cuaderno como tiza es a _____

Hijo es a padre como nieto es a _____

Sol es a día como estrella es a _____

Paloma es a paz como arma es a _____

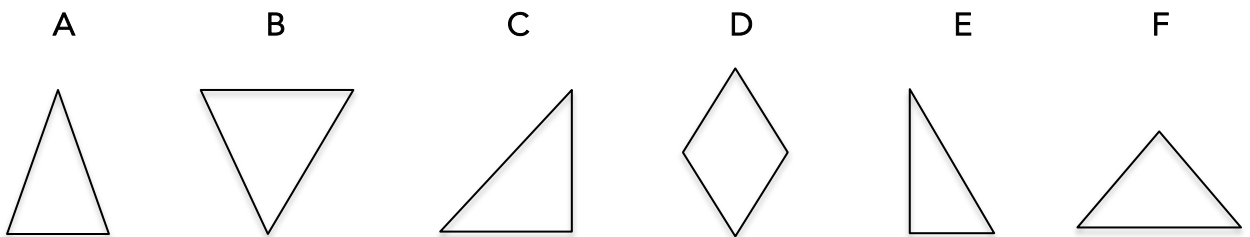
Gato es a ratón como zorro es a _____

Ángel es a bien como demonio es a _____

Llanto es a tristeza como risa es a _____

Abeja es a colmena como oveja es a _____

Elija el dibujo que no pertenece al grupo.



El reloj marca ahora las 8 horas y 10 minutos.

¿Qué hora señalará dentro de 4 horas y 35 minutos?

Ficha_de_trabajo_2018_semana35_D

Coloree dos cuadros cuya suma dé como resultado 31. Añada después la cifra necesaria para que la suma de los cuatro cuadros juntos sea 70.

19	20	9	22	—	18	14	—	24	11
11	—	21	—	15	16	17	17	7	—
22	9	23	9	22	10	—	18	7	—
—	15	8	—	21	—	13	16	23	24
26	23	—	14	19	—	—	12	27	—
8	—	18	13	12	25	5	26	24	4

¿Cuántas veces se repite cada tipo de automóvil?



—

—

—

—

—

