

## Lectura 38

### *Prevenir accidentes*

La prevención de accidentes es hoy por hoy un reto. Su número crece ...  
cada año y causan graves efectos, tanto a un nivel personal como por su ...  
coste en asistencia sanitaria y de protección social. ...

Los accidentes son la primera causa de muerte en niños y jóvenes entre ...  
1 y 19 años y la segunda de discapacidad y mortalidad, solo por detrás ...  
de la que originan las enfermedades cardiovasculares, las respiratorias y ...  
los tumores. ...

La OMS define accidente como *"un suceso no premeditado del cual ...  
resulta un daño corporal identificable"*. Es cierto que los accidentes son ...  
inesperados, pero eso no significa que sean inevitables; al menos, no en ...  
un alto porcentaje de casos. ...

La mayor parte se da en el hogar, un entorno que suele considerarse a ...  
salvo de peligros. Sin embargo, la realidad es bien distinta. Los suelos ...  
resbaladizos, las zonas mal iluminadas o las alfombras pueden provocar ...  
una caída, que es aún más peligrosa si ocurre en el cuarto de baño. ...

Y qué decir de la cocina, donde se utilizan a diario los cuchillos o el fuego. ...  
Hay razones de sobra para ser precavidos en el ámbito doméstico y tratar ...  
de identificar los posibles riesgos. ...

Repase atentamente la lectura; después, escriba a la derecha cuántas ...  
veces aparece la letra n (ene) en cada línea y súmelas. ...

1. Averigüe el valor de las letras según los números 0, 1, 2, 5, 6, 8 y 9, teniendo en cuenta que a cada una le corresponde un único número.

	A	A	A	A		5 = <u>    </u>					
	A	A	B	B	B	0 = <u>    </u>					
+	F	+	A	+	C	C	C	1 = <u>    </u>	8 = <u>    </u>		
	B		F	A		G	F	E	D	2 = <u>    </u>	9 = <u>    </u>

2. Escriba palabras que acaben en en, como abdomen o sartén.


3. Rellene los espacios vacíos del modo que se indica.

Si el número se encuentra entre 199 y 300, añada escriba un 9;  
 si está situado entre 301 y 400, un 8; si es mayor que 400, un 7;  
 si se encuentra entre 100 y 198 ponga un 6; por último, anote  
 el resultado de la suma de los números escritos.     

112	132	431	128	199	134	490	352	360	163
<u>    </u>	<u>    </u>	<u>    </u>	<u>    </u>	<u>    </u>	<u>    </u>	<u>    </u>	<u>    </u>	<u>    </u>	<u>    </u>
351	184	137	191	380	353	446	475	130	217
<u>    </u>	<u>    </u>	<u>    </u>	<u>    </u>	<u>    </u>	<u>    </u>	<u>    </u>	<u>    </u>	<u>    </u>	<u>    </u>
346	422	152	297	303	353	480	472	160	250
<u>    </u>	<u>    </u>	<u>    </u>	<u>    </u>	<u>    </u>	<u>    </u>	<u>    </u>	<u>    </u>	<u>    </u>	<u>    </u>










4. Sustituya los espacios vacíos por la letra adecuada según su posición y descubra una palabra. (Por ejemplo, B 3 = P)

	1	2	3	4
<u>A</u>	M	A	N	I
<u>B</u>	C	R	P	O

<u>B 1</u>	<u>A 2</u>	<u>A 1</u>	<u>B 3</u>	<u>A 2</u>	<u>A 3</u>	<u>A 2</u>	<u>B 2</u>	<u>A 4</u>	<u>B 4</u>
—	—	—	—	—	—	—	—	—	—

5. Averigüe el nombre de cada imagen ordenando las letras escritas y añadiendo una que falta; después, anótelo con su número.

1 	2 	3 	_ TELEANE	—	
			_ ACIAS	—	
			_ ROLOFE	—	
4 	5 	6 	_ ACERATE	—	
			_ OLUMATIO	—	
			_ ROSMORE	—	
7 	8 	9 	_ OLTM AIR	—	
			_ ASTPOA	—	
			_ EFOTELO	—	

6. Calcule la fecha

Si pasado mañana será lunes 26 de septiembre, ¿qué día fue anteayer?

\_\_\_\_\_

7. Escriba palabras relacionadas en ambas columnas como en el ejemplo indicado.

<u>Verbo</u>	<u>Adverbio</u>
Llegar	Lejos
Vivir	_____
Dormir	_____
Comer	_____
Cenar	_____
Cantar	_____
Bailar	_____
Andar	_____
Hablar	_____
Reñir	_____

8. Escriba debajo de cada una de estas palabras el nombre de un país.

ACUERDO	_____
ANIMARE	_____
SOCRATICA	_____
ARCAICO	_____
ASIENTO	_____

9. ¿Cuál es la pieza que encaja en el hueco de la izquierda? \_\_\_\_\_

