

Lectura 23 s

*Un programa sobre el envejecimiento en RTVE2*

Ofrecer en la televisión un programa sobre el envejecimiento es digno 0  
de aplauso. Sobre todo, si es para desmontar los falsos mitos de esta 0  
etapa de la vida, que son tan abundantes. No hay duda de que la vejez 0  
se ha transformado; sin embargo, no todo el mundo se ha dado cuenta 0  
del cambio. 0

Y de eso va el programa. El título es ya una declaración de intenciones: 0  
*El nuevo envejecimiento*. En este sentido, toda herramienta es útil para 0  
hacer ver que es necesario variar el enfoque con el que se juzga este 0  
periodo. 0

El conductor del programa señala los pronósticos sobre el volumen de 0  
mayores en el futuro. Y se pregunta tanto por las causas como por las 0  
consecuencias. Las respuestas vienen de la mano de **exp**ertos que 1  
arrojan luz sobre las cuestiones planteadas. 0

Sus argumentos despejan las dudas: en la actualidad, no solo se vive 0  
más, también mejor. Los mayores son hoy más vitales e independientes 0  
con respecto a los hijos, tienen amplias **ex**pectativas culturales y la edad 1  
no les hace perder el interés por la formación y el desarrollo personal. 0

Repase atentamente la lectura; después, escriba a la derecha cuántas 2  
veces aparece la letra x (equis) en cada línea y súmelas.

1. Escriba palabras que contengan la letra p y no comiencen por ella;  
por ejemplo, espiga.


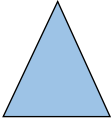




<u>Apego</u>	<u>Capilla</u>	<u>Rapto</u>	<u>Hampa</u>	<u>Lámpara</u>
<u>Sarpullido</u>	<u>Oportuno</u>	<u>Rápido</u>	<u>Aspirina</u>	<u>Tulipán</u>
<u>Zapato</u>	<u>Deporte</u>	<u>Sorpresa</u>	<u>Chopo</u>	<u>Cepillo</u>
<u>Vapuleo</u>	<u>Respeto</u>	<u>Episodio</u>	<u>Mapache</u>	<u>Golpe</u>

2. Escriba debajo las cifras mayores que 40 y menores que 60  
y averigüe cuánto suman todas juntas.

<u><math>41 + 48 + 58 + 52 + 44 + 49 + 53 + 56 + 50 + 42 = 493</math></u>									
69	20	64	28	15	<u>41</u>	30	18	25	74
36	13	33	80	<u>48</u>	34	66	<u>58</u>	68	<u>52</u>
26	65	70	21	75	61	19	35	14	76
78	36	63	12	<u>44</u>	77	29	10	38	23
<u>49</u>	16	22	17	32	71	<u>53</u>	62	27	<u>56</u>
72	<u>50</u>	79	31	67	24	11	39	<u>42</u>	73

3. Lea las instrucciones con atención.

Dibuje en los cuadros inferiores un círculo, una nube, un rombo,  
un cuadrado, un triángulo y un sol de derecha a izquierda.

					
---	---	---	---	---	---

4. ¿Cuántas cifras de cuatro dígitos se forman con los números 2 3 4 4 ? 12

2344, 2434, 2443, 3244, 3424, 3442, 4234, 4243, 4324, 4342, 4423 y 4432

5. Complete las siguientes analogías.

Sol es a claridad como noche es a oscuridad.

Torre es a iglesia como badajo es a campana.

Yunque es a martillo como tenazas es a clavo.

Tijera es a cortar como aguja es a coser.

Último es a primero como frío es a caliente.

Mar es a barco como acuario es a pez.

Sal es a salero como azúcar es a azucarero.

Transparencia es a cristal como reflejo es a espejo.


Mil es a cien como diez es a uno.

Fuente es a agua como prado es a hierba.


6. Forme una palabra con las tres letras del abecedario que no aparecen en el cuadro inferior. Mar

Ñ L P K S J I U H B V C O  
Y G T F X D E Z W Q N

7. Dibuje la figura que debería aparecer a la derecha.



8. Descubra el dibujo que se repite 9 veces.



9. Averigüe el valor de cada letra, entre 1, 2, 5, 6 y 7

$$\begin{array}{rcccc}
 & A & B & C & D \\
 + & A & B & C & D \\
 \hline
 D & B & E & F & B
 \end{array}$$

A = 6                  B = 2  
 C = 7                  D = 1  
 E = 5                  F = 4

10. Descubra un error en el calendario.

**Mayo tiene 31 días.**

Mayo 2022						
Lun	Mar	Mie	Jue	Vie	Sáb	Dom
						1
2	3	4	5	6	7	8
9	10	11	12	13	14	15
16	17	18	19	20	21	22
23	24	25	26	27	28	29
30						