

Lectura 20

Las mascarillas ya no son obligatorias en España

Desde el 20 de abril, las mascarillas ya no son obligatorias en España. ...

Han pasado más de dos años desde que la OMS anunció que la COVID-19 era una pandemia o, lo que es lo mismo, aquejaba a todo el planeta. ...

Atrás quedó un tiempo de incertidumbre ante lo que no se entendía muy bien. El confinamiento, la lejanía de los demás y la higiene más extrema parecen ya un mal sueño. ...

Los efectos del SARS-CoV-2 se conocen de sobra. Y no se ignora cómo se transmite. Que es a través de la vía aérea; de ahí el beneficio de los espacios abiertos y la ventilación de los interiores. ...

No obstante, la norma tiene excepciones. El uso de las mascarillas es obligado en ciertos espacios. Se impone ante los más vulnerables, como los enfermos crónicos. También en los centros sanitarios, las residencias geriátricas o las farmacias; así mismo, en el transporte público. ...

Pese a todo, algunas personas llevan la mascarilla, incluso, al aire libre. Y eso no sirve de nada. Hay que dejar a un lado la desconfianza. La vida ha de seguir su curso y, sin caer en la imprudencia, conviene perder el miedo. ...

Repase atentamente la lectura; después, escriba a la derecha cuántas veces aparece la letra v (uve) en cada línea y súmelas. ...

1. Relacione las palabras de ambas columnas y añada junto al número la letra que le corresponde; después, indique con una X su posición en la cuadrícula.

	A	B	C	D	E	F	G	H	I	J			
1											1 _	Pino	A Plato
2											2 _	Alfiler	B Selva
3											3 _	Taza	C Tinta
4											4 _	Teléfono	J Cabello
5											5 _	Tigre	E Reflejo
6											6 _	Agua	F Pinchazo
7											7 _	Espejo	G Sonido
8											8 _	Papel	H Piña
9											9 _	Vajilla	I Café
10											10 _	Champú	D Sed

2. Averigüe el valor de cada nombre sabiendo que las consonantes valen 4 puntos, las vocales 5 y las tildes suman 1 punto más.

BALDOMERO	_____	_____
DESIDERIO	_____	_____
MARCELINA	_____	_____
SEBASTIÁN	_____	_____
ADORACIÓN	_____	_____
CASIMIRO	_____	_____
CANDELARIA	_____	_____
FAUSTINO	_____	_____
ALEJANDRA	_____	_____

3. Agregue el signo matemático que falta para que se cumplan las operaciones.

40	:	2	7	=	140	8	-	1	9	=	63		
36		6	+	22	=	52	16		34	:	2	=	25
31	+	9		20	=	60	22	x	6		12	=	120
28		4	:	4	=	6	29		4	+	33	=	66
23	+	3		2	=	52	34	:	2		3	=	51
18	x	5		31	=	59	47		1	+	23	=	70

4. Descubra las letras sobrantes de una frase del Dalay Lama y forme con ellas un refrán.


















El homabre sapcrifica la saluda parra gantar dienero. Ludego sacerifica
elo dinetro parra recuperar las saclud. Y esotá tans preacupados
pore el futunro quea no disfbruta drel piresentel. Del moado ques
no vilve ni el piresentel ni el fuaturo. Vives coymo si nuneca funera
ma morirase y sey muoere sinl habaer visvidro verodadesramenates.

5. ¡Qué palabra es?

Comienza por R. _____

Instrumento que sirve para medir el tiempo.

6. ¿Qué número entre el 0 y el 4 corresponde al valor de cada fruta?

 = _	 = _	 = _	 = _	 = _
 +  = 		 -  = 		
 +  = 		 +  = 		

7. Escriba palabras que contengan tres aes, como manzana.

<hr style="border: 1px solid red;"/>	<hr style="border: 1px solid red;"/>
<hr style="border: 1px solid red;"/>	<hr style="border: 1px solid red;"/>
<hr style="border: 1px solid red;"/>	<hr style="border: 1px solid red;"/>
<hr style="border: 1px solid red;"/>	<hr style="border: 1px solid red;"/>
<hr style="border: 1px solid red;"/>	<hr style="border: 1px solid red;"/>
<hr style="border: 1px solid red;"/>	<hr style="border: 1px solid red;"/>
<hr style="border: 1px solid red;"/>	<hr style="border: 1px solid red;"/>
<hr style="border: 1px solid red;"/>	<hr style="border: 1px solid red;"/>
<hr style="border: 1px solid red;"/>	<hr style="border: 1px solid red;"/>
<hr style="border: 1px solid red;"/>	<hr style="border: 1px solid red;"/>

8. Rellene los espacios vacíos averiguando el valor de cada flecha.

↑	+	↑	+	↑	+	↑	=	20
↘	+	↘	+	↘	+	↘	=	24
↗	+	↗	+	↗	+	↗	=	28
↙	+	↙	+	↙	+	↙	=	32
↗	+	↑	+	↘	+	↑	=	_
↑	+	↑	+	↙	+	↗	=	_
↙	+	↘	+	↑	+	↘	=	_
↗	+	↙	+	↘	+	↑	=	_
↙	+	↑	+	↙	+	↗	=	_
↑	+	↗	+	↗	+	↑	=	_
↘	+	↙	+	↙	+	↙	=	_
↗	+	↘	+	↗	+	↗	=	_

9. Agrupe las figuras por docenas y averigüe su número. _____

