

Lectura 16

Evolución demográfica

No deja de ser una sinrazón que la evolución demográfica y la vejez ...
alarmen cuando van de la mano. Y es que, en el último siglo, se han ...
logrado grandes ventajas en este sentido. ...

Hace ya tiempo que dejó de ser usual ver morir a un buen número de ...
niños a lo largo de la infancia, a mozos en la juventud, a adultos en su ...
plena madurez o las mujeres al dar a luz. ...

Los datos están ahí, al alcance de la mano. Y, como resultado de la ...
mayor esperanza de vida, el porcentaje de personas de más de 60 años ...
no deja de crecer. El escenario, en su origen, hizo saltar las alarmas. ...

No solo se auguraba que la discapacidad y la mala salud alcanzarían ...
cifras inquietantes, también el colapso sanitario y la quiebra del sistema ...
de pensiones. Es sabido que el desastre no se materializó. ...

Hoy no solo se vive más, también en unas condiciones de salud y calidad ...
de vida muy superiores a las de las generaciones que nos precedieron. Y ...
es que la evolución demográfica no ha de ser vista como una fuente de ...
problemas, si no de oportunidades para hacer de la vejez una etapa de ...
la vida más plena. ...

Repase atentamente la lectura; después, escriba a la derecha cuántas ...
veces aparece la letra n (ene) en cada línea y súmelas. ...

1. Rellene los espacios vacíos sabiendo que la cifra de cada casilla es el resultado de sumar las dos situadas encima de ella.

—	13	—	19
30	—	27	
—	48		
—			

15	—	14	—
—	28	—	
57	45		
—			

2. Quite una letra en cada fila y reordene el resto para lograr palabras que se correspondan con la definición de la derecha.

P	O	L	A	R	E	S

Osos del polo norte

Contenedor de sal

Parte inferior del tejado

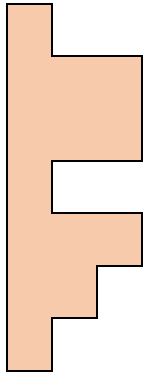
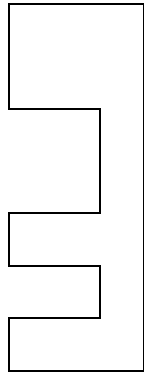
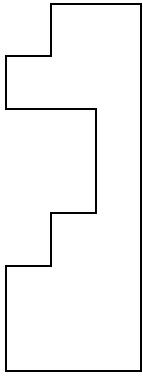
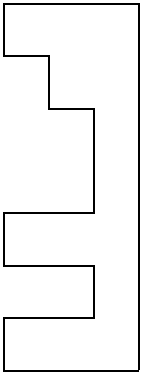
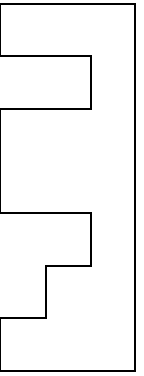
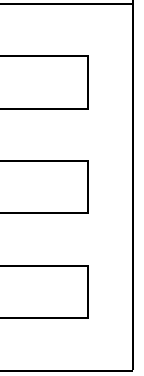
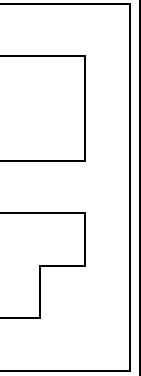
Usar el olfato

Preso

Nota musical

Segunda vocal

3. Indique qué figura forma un rectángulo con la número 1. _____

						
1	2	3	4	5	6	7

4. Utilice todas las sílabas una sola vez para escribir el nombre de 8 objetos dónde sentarse.

VÁN	ME	LLÓN	BAN	RA	_____	_____
DO	DI	SI	TA	SO	_____	_____
BAN	TA	CE	FÁ	SI	_____	_____
BU	CA	LLA	CO	QUE	_____	_____

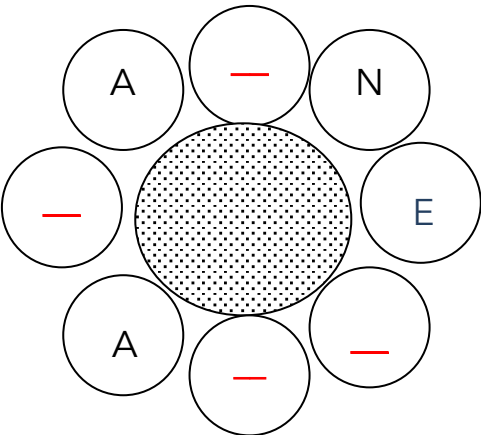
5. Indique cuántos cuadros hay de cada clase.

De color: __; en blanco: __; con línea vertical: __; con línea horizontal: __.

6. Señale las parejas de cifras que suman 107.

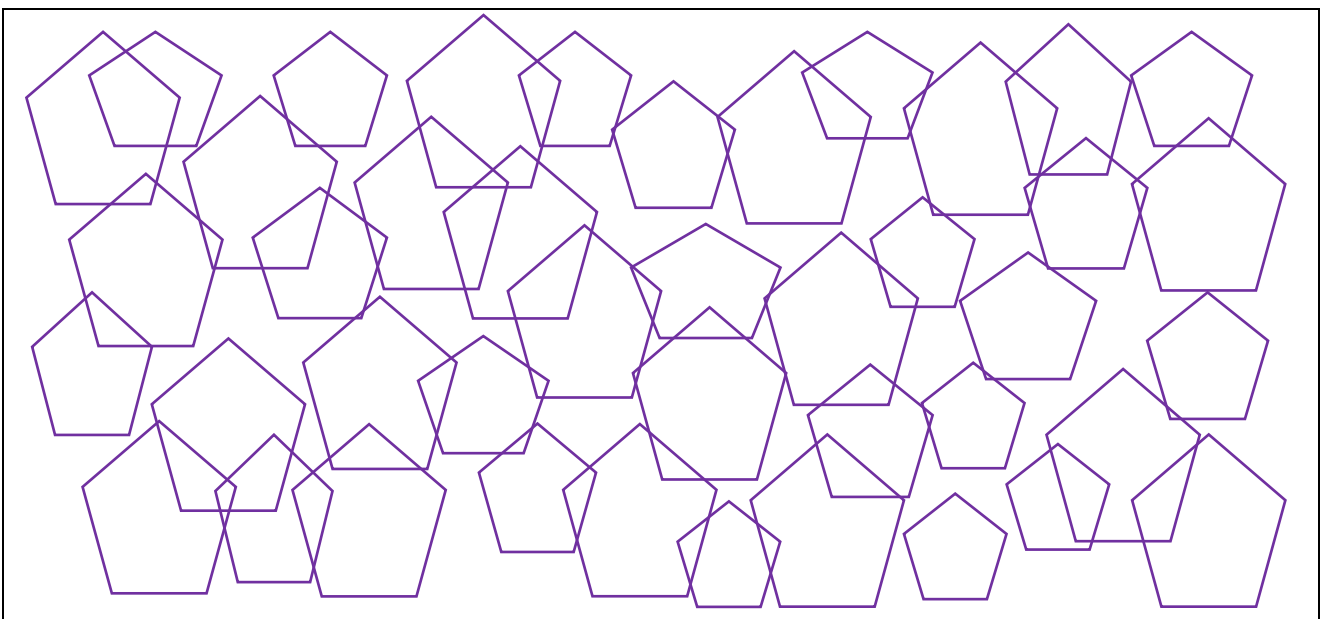
60 47	59 26	65 42	86 21	36 74
79 37	59 48	63 61	83 28	95 17
49 53	14 93	39 71	44 68	67 40
27 89	58 54	85 22	18 96	34 77
99 13	75 32	59 41	56 51	44 63

7. Flor.



Añada las letras que faltan para descubrir el nombre de una flor. La palabra puede empezar por cualquiera de los círculos y el sentido de la lectura ir de izquierda a derecha o al contrario.

8. ¿Cuántos pentágonos se ven en el cuadro? _____



9. Para pensar con atención.

Si Manuela y Alicia tienen la misma cantidad de dinero, ¿qué cantidad deberá dar la primera a la segunda para que Alicia tenga 10 euros más que Manuela? _____