

Lectura 14

La vejez en la Antigua Grecia (II)

El interés por la vejez en la Antigua Grecia nos lleva a Jenofonte. El ...
historiador da cuenta de la rivalidad entre los estados de Esparta y ...
Atenas y, en su obra Recuerdos de Sócrates, plantea imitar al primero ...
como modo de mejorar al segundo. ...

Asegura que los espartanos respetan a los mayores, obedecen la ley y ...
conviven en armonía; por el contrario, los atenienses se ríen de la vejez; ...
se jactan de burlar la ley y discuten y se envidian entre ellos. ...

El teatro es una fuente de información muy rica y variada sobre la vejez ...
en la Antigua Grecia. Sus textos son el eje de la educación en valores y, ...
a la vez, el reflejo de la sociedad de los siglos V y IV a. de C. ...

En este aspecto, la imagen de la senectud es doble. Hay obras en las ...
que se destaca el valor de la sabiduría, mientras que en otras se denigra ...
la mucha edad. ...

Y es que la visión de la vejez no es la misma en la tragedia que en la ...
comedia. En la primera, se ve a los ancianos como los depositarios de la ...
memoria y la experiencia. El retrato de la segunda no es tan amable, ya ...
que se burla del menoscabo de los años en el cuerpo y en la mente. ...

Repase atentamente la lectura; después, escriba a la derecha cuántas ...
veces aparece la letra l (ele) en cada línea y súmelas. ...

1. Escriba palabras que acaben en ón, como melón

_____	_____	_____	_____	_____	_____
_____	_____	_____	_____	_____	_____
_____	_____	_____	_____	_____	_____

2. Coloree los cuadros indicados para encontrar una cifra. _____

1 2 3 4 6 9 11 16 17 18 19 23 25 28
 30 35 38 39 40 41 42 44 45 46 47 49 50
 51 52 54 55 56 57 61 66 68 71 73 76 77
 78 79 80 85 87 88 89 90 92 93 94 95

1	2	3	4	5	6	7	8	9	10	11	12	13	14	15	16	17	18	19
20	21	22	23	24	25	26	27	28	29	30	31	32	33	34	35	36	37	38
39	40	41	42	43	44	45	46	47	48	49	50	51	52	53	54	55	56	57
58	59	60	61	62	63	64	65	66	67	68	69	70	71	72	73	74	75	76
77	78	79	80	81	82	83	84	85	86	87	88	89	90	91	92	93	94	95

3. Realice las operaciones teniendo en cuenta la equivalencia de cada letra.

H = 10	J = 3	K = 11	L = 5	M = 12	N = 7	P = 13	T = 9
J + K + L = _____			L + M + N = _____			N + M + P = _____	
T + K + J = _____			H + K + L = _____			T + H + K = _____	
H + J + K = _____			K + L + M = _____			N + P + L = _____	
K + N + T = _____			N + P + T = _____			L + K + N = _____	
P + L + H = _____			P + M + L = _____			J + P + L = _____	

4. Descubra 6 cuadrados \square formados por 4 números pares.

1	29	4	29	11	59	37	21	22	38	19	39	55	27	49
45	3	26	2	25	43	63	50	44	30	61	13	12	71	30
53	37	18	40	58	6	33	5	66	9	38	20	14	46	17
31	48	54	15	47	12	36	63	16	24	52	65	32	10	56
6	34	19	61	9	28	4	16	50	8	7	44	40	23	22
42	20	14	47	26	10	25	43	34	33	2	41	51	57	35

5. Escriba nombres de oficios o profesiones que comiencen con la letra indicada

A	_____	B	_____	C	_____
D	_____	E	_____	F	_____
G	_____	I	_____	J	_____
M	_____	P	_____	R	_____
S	_____	T	_____	V	_____






6. Rellene los cuadros vacíos con el n° correspondiente a la figura que falta en la serie.

	9	8	7	6	5	4	3	2	1	0				

7. Busque las secuencias de caracteres subrayadas en la parte superior.

<u>Σ Ν Θ</u>			<u>Ξ Đ Ć</u>			<u>Ů Υ Δ</u>			<u>Ŝ Ž Ĵ</u>							
Ʀ	Θ	Ξ	Σ	Ν	Θ	∅	Ů	Ô	Κ	Υ	Δ	Λ	Δ	Ŝ	Ž	Ĵ
Ν	Δ	Ć	Ž	Κ	Υ	Đ	Λ	Σ	Σ	Ν	Θ	Δ	È	Ν	Ĭ	Π
Đ	Ξ	Đ	Ć	Ĭ	Π	Δ	Σ	Ν	Δ	Ĭ	Δ	Λ	∅	Ξ	Ô	Ĵ
Ā	Č	Σ	Λ	Κ	Ů	Υ	Δ	Ĭ	Ů	È	Δ	Ĭ	Σ	Θ	Ā	Ů
Ν	Ĵ	Ŝ	Ν	Ů	Δ	È	Ʀ	Θ	Ξ	Ĵ	Ξ	Đ	Ć	Σ	Δ	Λ
Δ	Ĭ	Σ	Θ	Δ	Ĭ	Δ	Ĭ	Σ	Θ	Δ	Ĭ	∅	Ĭ	Δ	Ć	Δ
Ů	Υ	Δ	Đ	Λ	Σ	Ŝ	Ž	Ĵ	Δ	È	Ν	Ĭ	Ā	Ć	Ž	Θ
Ć	Ŝ	Ž	Δ	Θ	Ć	Ν	È	Δ	Γ	Ν	Ć	Ž	Κ	Ŝ	Ô	∅
Ξ	Ę	Γ	Ŝ	Ž	Ĵ	Π	Ů	È	Ν	Δ	Θ	È	Σ	Ν	Θ	Δ
Ć	Ž	Κ	Υ	Đ	Ć	Κ	Ž	∅	Ů	Υ	Δ	Ů	È	Κ	Υ	Ž
Ĵ	Ŝ	Σ	Ν	Θ	Ā	Ć	Ž	Κ	Ŝ	Ô	Δ	Λ	Ĭ	∅	Ĭ	Ô
Ů	Ν	Ć	È	Ž	Δ	Ξ	Đ	Ć	Ν	Ĭ	Υ	Σ	Đ	Ŝ	Ž	Ĵ

8. Anote debajo de cada dibujo cinco palabras referidas al mismo.

				
_____	_____	_____	_____	_____
_____	_____	_____	_____	_____
_____	_____	_____	_____	_____
_____	_____	_____	_____	_____
_____	_____	_____	_____	_____