

## Lectura 46

### *Las canas están de moda*

Las canas están de moda. Sobre todo en las mujeres, que suelen ser las ...  
primeras a la hora de ocultarlas. Y es que las normas al uso son más ...  
exigentes para ellas. Mientras que un hombre con canas gana atractivo, ...  
una mujer parece perderlo. ...

El pelo gris indica la suma de los años. De un modo u otro, muestra que ...  
la vejez se acerca. Y su disfraz es casi una obligación, porque ¿a quién le ...  
gusta parecer viejo? La juventud ha sido objeto de veneración a lo largo ...  
de la historia. Pero, por fortuna, hay cosas que cambian. ...

Se trata sin duda de un paso más en la lucha por dejar de cumplir un ...  
patrón estético que obliga a no ser como se es en realidad. Y aumenta el ...  
número de quienes se suman a la práctica. ...

El pelo sin teñir ya no es lo que era. De dar una imagen de descuido y ...  
abandono ha pasado a ser una muestra de libertad. Lucir las canas con ...  
naturalidad es un paso en contra de ocultar los años. Es de esperar que ...  
su aceptación haya venido para quedarse y no sea una moda más. En ...  
este sentido, bienvenidas sean las canas y el resto de huellas que brinda ...  
el paso del tiempo. ...

Repase atentamente la lectura; después, escriba a la derecha cuántas ...  
veces aparece la letra j (jota) en cada línea y súmelas. ...

1. Complete el término para obtener palabras compuestas.

Para _____	Limpia _____	Marca _____	Lava _____
Saca _____	Abre _____	Pasa _____	Pisa _____
Monta _____	Salva _____	Espanta _____	Mapa _____
Escurre _____	Porta _____	Pinta _____	Tira _____

2. Inserte en el rectángulo vacío el conjunto de piezas inferiores, respetando la posición en la que aparecen.

F F F  
F F F  
F F

A A A  
A  
A

G G G G  
G G G

E E

C C  
C C  
C

J J J  
J J J J

B B B B  
B B

D D  
D  
D

H H H H



























































3. ¿Cuántos son los números que no se repiten? \_\_\_\_\_

506	517	507	522	510	518	514	527	515	509
513	526	512	519	529	520	508	523	511	524
532	511	535	509	528	515	526	513	531	516
521	507	531	522	506	532	534	517	508	530
520	525	516	514	527	519	510	535	533	512

4. Sombree el camino que va de la A a la Z en cuadros lindantes, respetando el orden alfabético.

A, B, C, D, E, F, G, H, I, J, K, L, M, N, Ñ, O, P, Q, R, S, T, U, V, W, X, Y, Z.																
C	B	K	R	E	Q	Z	R	M	X	A	S	V	Y	U	S	T
D	A	L	C	T	P	K	K	L	P	Q	C	H	S	R	A	T
B	J	B	C	K	J	J	Z	L	O	P	O	Q	Q	S	U	B
H	C	D	A	H	I	Ñ	V	B	M	N	S	P	Q	A	V	W
D	H	L	G	I	B	L	A	S	N	L	O	J	X	W	F	G
E	E	F	M	A	V	D	Y	B	E	Ñ	R	A	Y	X	Y	M
A	V	G	N	X	C	T	D	C	F	O	F	S	C	H	Y	Z

5. Señale la imagen del cuadro inferior que falta en el superior.

6. Resuelva el problema atendiendo al valor de cada letra.

$D = 16, E = 27, F = 38$  y  $G = 51$

¿Cuál es el resultado de sumar  $D + E + F$  y restarle  $G$  al total?

---

7. Observe en el ejemplo la equivalencia entre flechas y letras y escriba a la derecha las palabras que resultan.

→	←	↗	↓	↘	↙	↑	=	E	S	I	A	N	C	O
↓	↙	→	↘	↗	↑	←	=	—	—	—	—	—	—	—
↗	↓	↙	↑	↘	→	←	=	—	—	—	—	—	—	—
↗	↑	↙	↓	←	→	↘	=	—	—	—	—	—	—	—
↙	↑	←	↗	→	↓	↘	=	—	—	—	—	—	—	—

8. Las palabras de la derecha han perdido algunas letras, localícelas en las escritas en los cuadros de la izquierda.

ARD	RMO	ESPEC ___ ISTA	ADI ___ ANZA
ONA	MER	DESAR ___ LO	INTE ___ RIE
IFI	STA	OLEO ___ TO	MON ___ ERIO
RDI	NAD	SIET ___ SINO	FIRM ___ NTO
HUM	IAL	HE ___ SURA	RAZ ___ BLE
VIN	EME	GAB ___ INA	TEC ___ BRE
ULA	ROL	NU ___ ACIÓN	PA ___ ERÍA
DUC	AST	JA ___ NERO	CRI ___ LERÍA
AME	MPE	VER ___ CACIÓN	OND ___ TORIO

9. Averigüe el acertijo.

En un río hay 5 patos y 10 patas, pero solo hay 5 picos.  
¿Cómo puede ser? \_\_\_\_\_