

Lectura 31

Record de temperaturas extremas

En el verano de 2021 se ha batido pronto el record de temperaturas ...
extremas. A los pocos días de llegar el verano al hemisferio norte, ya se ...
habían producido marcas nunca vistas. Afectaron al oeste de Canadá y el ...
noroeste de los Estados Unidos, una región donde no hay precedentes ...
de algo así. ...

Los termómetros ascendían casi a los 50 grados cuando lo usual es no ...
superar los 25. Como es lógico, cuentan con medios para combatir el ...
frío, pero no el calor. A la población se la aconsejaba protegerse todo lo ...
posible, acudiendo a lugares como bibliotecas o centros comerciales ...
donde hay aire acondicionado. ...

La Organización Meteorológica Mundial (OMM) avisa de que no dejan ...
de aumentar los episodios de este tipo, tanto en frecuencia como en ...
intensidad. El cambio climático es el mal de nuestro tiempo. Y asciende ...
la temperatura media del planeta. ...

Todo obedece a la concentración de los gases con efecto invernadero. ...
La solución pasa por optar por fuentes de energía renovables y reducir ...
el uso del gas, el petróleo y el carbón, que son más contaminantes. ...

Repase atentamente la lectura; después, escriba a la derecha cuántas ...
veces aparece la letra s (ese) en cada línea y súmelas. ...

4. Subraye las palabras que contengan tres consonantes en el orden que se indica y escriba a su derecha el número de grupo al que pertenecen.

1) <u>D L T</u>	2) <u>P R T</u>	3) <u>S N D</u>	4) <u>M N D</u>	5) <u>C S N</u>	6) <u>L T R</u>
LOTERÍA	SEÑAL	SENDA	PIENSO	DELTA	
DUELO	MONEDA	MIENTRAS	MUNDO	SALIDA	
PEREZA	MANERA	CAUSAN	SIESTA	DANZA	
DELITO	PURO	DOLOR	SONDEO	PUERTA	
SUEÑO	PRIETO	SENSATO	DERECHO	MENTIR	
CASINO	DIENTE	PARED	LITRO	PALANCA	





































5. Señale cuatro dígitos consecutivos que sumen 20 en cada fila (de izquierda a derecha). ¿Cuántos grupos hay? _____

4	3	8	1	4	5	6	5	7	2	9	4	2	6	4	5	4	1	2
3	8	6	5	1	7	2	2	4	5	6	7	1	8	2	0	2	6	4
8	6	1	1	5	7	2	7	1	0	2	3	4	1	2	7	1	8	2
6	2	5	1	0	9	1	7	8	3	4	6	5	1	2	3	9	6	1
7	1	8	2	3	4	1	2	7	0	1	8	2	3	4	1	2	7	5
8	7	1	2	4	2	6	4	5	5	7	1	2	4	2	6	4	5	7
2	4	5	6	7	1	8	2	2	2	4	5	4	6	1	9	0	2	4

6. Calcule la fecha.

Sí anteayer fue viernes 30 de julio ¿qué día será pasado mañana?

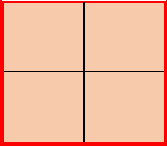
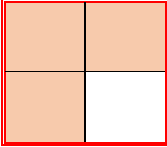
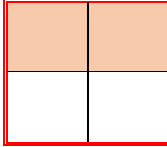

7. Descubra en cada línea (de izquierda a derecha)
el cuadro idéntico al modelo situado a la izquierda.

8. Escriba palabras que se relacionen con el lenguaje, como lectura.

_____	_____	_____	_____
_____	_____	_____	_____
_____	_____	_____	_____

9. Señale qué cuadro completa el 4º lugar en la serie. A – B – C – D.

1º	2º	3º	4º
			
A	B	C	D
