

Ficha_de_trabajo_2020_semana48_A

Envejecimiento activo y feminismo

A los 78 años, Isabel Allende une en su último libro envejecimiento activo ...
y feminismo. Su título es *Mujeres del alma mía* y se lo dedica a las figuras ...
femeninas que dejaron huella en ella a lo largo de la vida. La primera es ...
su madre, quién se casó en contra de la voluntad de la familia. ...

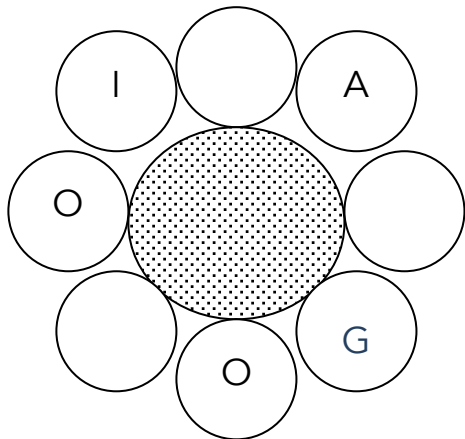
Pero el marido la dejó sola. De pronto, se vio con dos niños de corta ...
edad y un bebé en brazos. No tuvo más remedio que regresar a la casa ...
de sus padres. Estaba en una situación de clara desventaja con respecto a ...
sus hermanos; sin dinero, sin trabajo, era el blanco de todas las críticas. ...

Pese a su corta edad, a la escritora se le hizo patente el machismo de la ...
sociedad. Y así nació su rebeldía contra el papel de la mujer, relegada a ...
un segundo plano. Se convirtió en una niña de carácter difícil y las monjas ...
la expulsaron del colegio al que asistía. ...

Ella cree que fue por ser hija de madre soltera. Como no existía el ...
divorcio, el matrimonio de los padres se había disuelto. Y, a ojos de la ley, ...
esa era su condición. Con la edad me ha vuelto más feminista, afirma; ...
para ella es un modo de entender las relaciones humanas y la justicia. ...

Repase atentamente la lectura; después, escriba a la derecha cuántas ...
veces aparece la letra t (te) en cada línea y súmelas. ...

Ficha_de_trabajo_2020_semana48_B



Añada las letras adecuadas para descubrir el nombre de una flor. (El sentido de la lectura puede ser de izquierda a derecha o al revés)



Sitúe las palabras inferiores de izquierda a derecha a partir de la posición de la letra O.

Sociólogo, laborioso, rotatorio, dolorosos, honorario, monotonía, zoológico y monocromo.

	O		O		O		O	
	O		O		O			
	O		O					O
	O				O			O
	O			Ó		O		O
			O			O		O
	O	O						O
	O		O			O		O

	1 ^a	2 ^a	3 ^a	4 ^a
A	1	3	5	7
B	9	0	2	4
C	6	8	1	2
D	3	4	5	6
E	7	8	9	0


Descubra una cifra siguiendo estas instrucciones: el primer dígito está situado en la 3^a columna la fila A; el segundo en la 2^a columna de la fila B; el tercero en 3^a columna de la fila E; el cuarto en la 1^a columna de la fila D y el quinto en 4^a columna de la fila C.



Ficha_de_trabajo_2020_semana48_C

Indique cuántos cuadros hay de cada clase.

Blancos: ___; de color ___; con línea vertical: ___; con línea horizontal: ___.

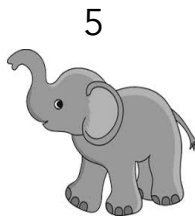
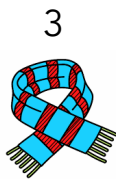
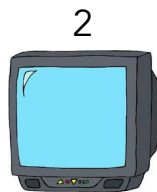



Complete los números que faltan en cada casilla buscando su secuencia lógica de izquierda a derecha.

16	18	20	___	25	28	31	___	35	39	43	___
___	55	60	65	70	78	___	94	94	___	92	91
90	88	___	84	80	___	74	71	___	66	62	58
56	___	46	41	___	34	28	22	21	29	___	45
47	56	65	___	68	___	50	41	___	30	20	10

Ficha_de_trabajo_2020_semana48_D

Ordene las letras escritas, añada una más para encontrar el nombre de cada imagen y anótelo con el número correspondiente; después construye una palabra con las letras que sobran. _____



PIRA _ OAS

NUFAB _ D

LA _ ONTAN

ECTFA _ AR

DEDRO _ ARO

ETEFLEA _

LETRI _ OSE

_ TCRILIC

SJRIET _

Averigüe el valor de cada nombre sabiendo que las vocales valen 5 puntos, las consonantes 6 y se añade 1 punto más si lleva tilde.

Escriba a la derecha los dígitos usados en cada caso.

1.	C A S I M I R O	_____	
2.	M A R C E L A	_____	
3.	F A U S T I N O	_____	
4.	I G N A C I O	_____	
5.	Á N G E L E S	_____	
6.	C A R M E L A	_____	