

Ficha_de_trabajo_2020_semana23_A

El ritmo de la senectud

El paso de los años es más lento que antes; al menos, eso afirman los científicos que investigan los diferentes aspectos de la vejez en una monografía editada por la Fundación General CSIC. Se titula "El ritmo de la senectud" y se puede consultar en la web.

No hay duda de que cada vez vivimos más. Por el contrario, el grado de acuerdo sobre si se vive también mejor no es el mismo. La ciencia quiere averiguar cuales son los factores que permiten envejecer en buenas condiciones. Y no fácil, ya que intervienen multitud de elementos.

¿Cuánto se puede retrasar el reloj biológico? ¿Cuál es el límite de la vida? ¿Cómo prevenir la fragilidad en la vejez? ¿Envejecen igual las mujeres y los hombres? ¿Es la actividad física tan esencial como parece? ¿Son decisivos los estilos de vida?

Y es que el envejecimiento es un logro que entraña grandes retos. El futuro de la humanidad depende en gran medida de que se superen con éxito. Resolver estos interrogantes allana el camino para lograrlo.

Repase atentamente la lectura; después, escriba a la derecha cuántas veces aparece la letra f (efe) en cada línea y súmelas.

Ficha_de_trabajo_2020_semana23_B

Las frases siguientes son refranes incompletos.
Escriba qué palabra falta y el número correspondiente.

Dime de qué presumes y te diré de qué _____

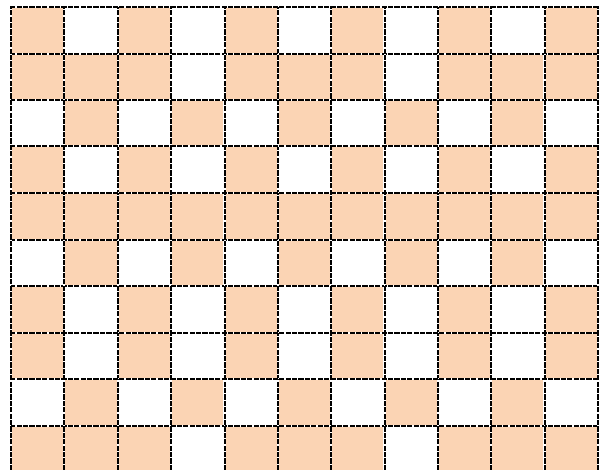

Casa de dos puertas es difícil de _____

Hombre prevenido vale por _____

Más vale prevenir que _____

1.- lastimar	2.- no llegar	3.- guardar	4.- muchos	5.- correr
6.- disfrutas	7.- oro	8.- tener	9.- curar	10.- careces
11.- dos	12.- mereces	13.- cerrar	14.- abrir	15.- mil

Reproduzca a la izquierda los cuadros sombreados en la derecha.



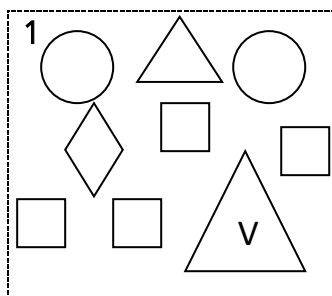
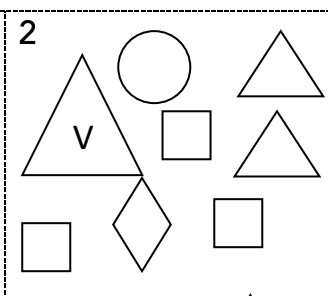
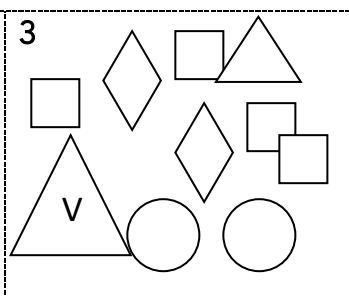
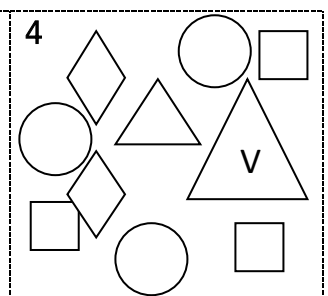
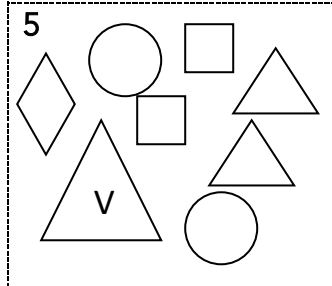
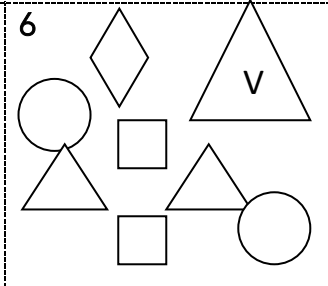
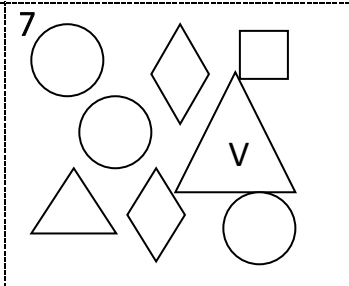
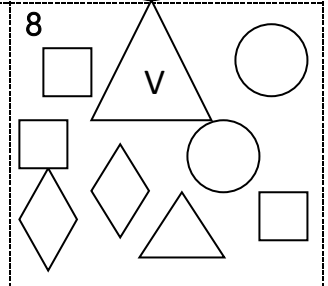
Descubra esta adivinanza.

Casi la lleva al principio, pancarta en la mitad
y amanecer en el final. ¿Qué letra es? _____

Ficha_de_trabajo_2020_semana23_C

Señale qué número responde a la siguiente descripción. _____

El cuadro tiene dos triángulos y en el más grande se ve la letra V; además, hay tres cuadrados, dos rombos y dos círculos.

<p>1</p> 	<p>2</p> 	<p>3</p> 	<p>4</p> 
<p>5</p> 	<p>6</p> 	<p>7</p> 	<p>8</p> 

Señale la palabra intrusa en cada fila (de izquierda a derecha)

Cariño	Apego	Afecto	Ternura	Desdén	Amor
Mosca	Mariposa	Abeja	Araña	Avispa	Langosta
Canción	Voz	Balada	Tonada	Melodía	Himno
Bueno	Malo	Serio	Peor	Magnífico	Pésimo
Calma	Fatiga	Cansancio	Ahogo	Sofoco	Jadeo
Cobre	Acero	Aluminio	Latón	Plomo	Madera
Tarta	Masa	Bollo	Torta	Bizcocho	Pastel

Ficha_de_trabajo_2020_semana23_D

Rellene los espacios vacíos
teniendo en cuenta el valor
asignado a cada flecha.

↗ + ↗ + ↗ + ↗ = 16

↖ + ↖ + ↖ + ↖ = 20

↘ + ↘ + ↘ + ↘ = 24

↑ + ↑ + ↑ + ↑ = 28

↗ + ↖ + ↘ + ↗ = ____

↑ + ↗ + ↖ + ↘ = ____

↖ + ↘ + ↑ + ↑ = ____

↗ + ↑ + ↘ + ↑ = ____

Sume de 6 en 6 desde el
número 1200 hasta el 1416.

Observe el cuadro inferior e intente contestar a las
preguntas sin señalar los cuadros con el lápiz.

¿Cuántos son los cuadros en blanco? ____ ¿Y los oscuros? ____

¿Cuántas veces aparece el número 21? ____ ¿Y el 31? ____

			21				31					31		21
	21			31		21			21	31			31	
							21						21	
		31			21						21			
21				31				21		31			31	