

Ficha\_de\_trabajo\_2020\_semana14\_A

## *Retirar el carnet de conducir*

La polémica sobre los conductores de mayor edad asoma cada cierto tiempo como noticia. Y es que hay quién opina que las personas mayores no deberían conducir, porque suponen un riesgo para la seguridad vial.

Es cierto que la vejez se acompaña de un declive de las competencias funcionales; la capacidad de reacción decrece y los reflejos son más lentos. Sin embargo, los conductores mayores lo compensan con una valoración del riesgo más acusada.

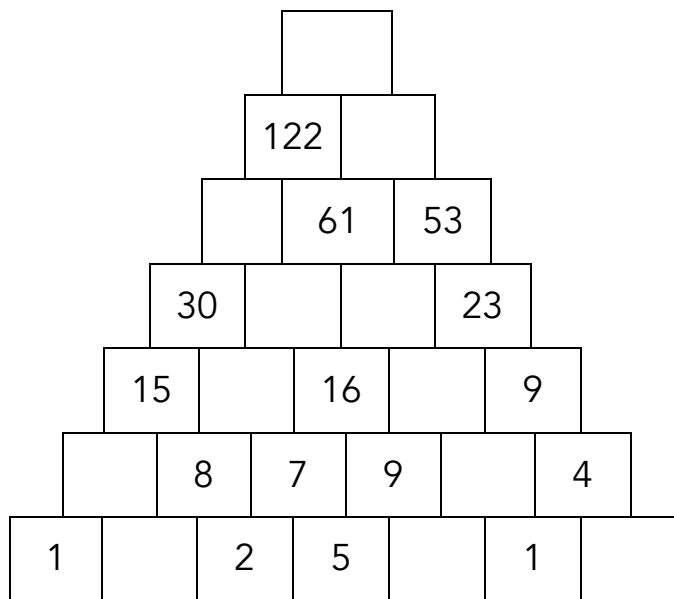
Los mayores al volante no son un peligro en sí mismos. Y las cifras sobre accidentes lo ponen de manifiesto. La DGT (Dirección General de Tráfico) no contempla un tope de edad en las normas de circulación. No obstante, al cumplir los 65 años, reduce el plazo de renovación del carnet de conducir, que pasa de 10 a 5 años.

El problema no es tanto la edad como las circunstancias que la rodean. La más importante es la de conservar la aptitud para manejar un vehículo. Y aceptar el momento en que esta disminuye no es fácil, pero sí ineludible.

Repase atentamente la lectura; después, escriba a la derecha cuántas veces aparece la letra d (de) en cada línea y súmelas.

Ficha\_de\_trabajo\_2020\_semana14\_B

Rellene las casillas vacías, sabiendo que el número escrito en cada una es la suma de las dos que tiene debajo.



Escriba palabras que contengan tres veces la letra o, como cocodrilo.

-----

-----

-----

-----

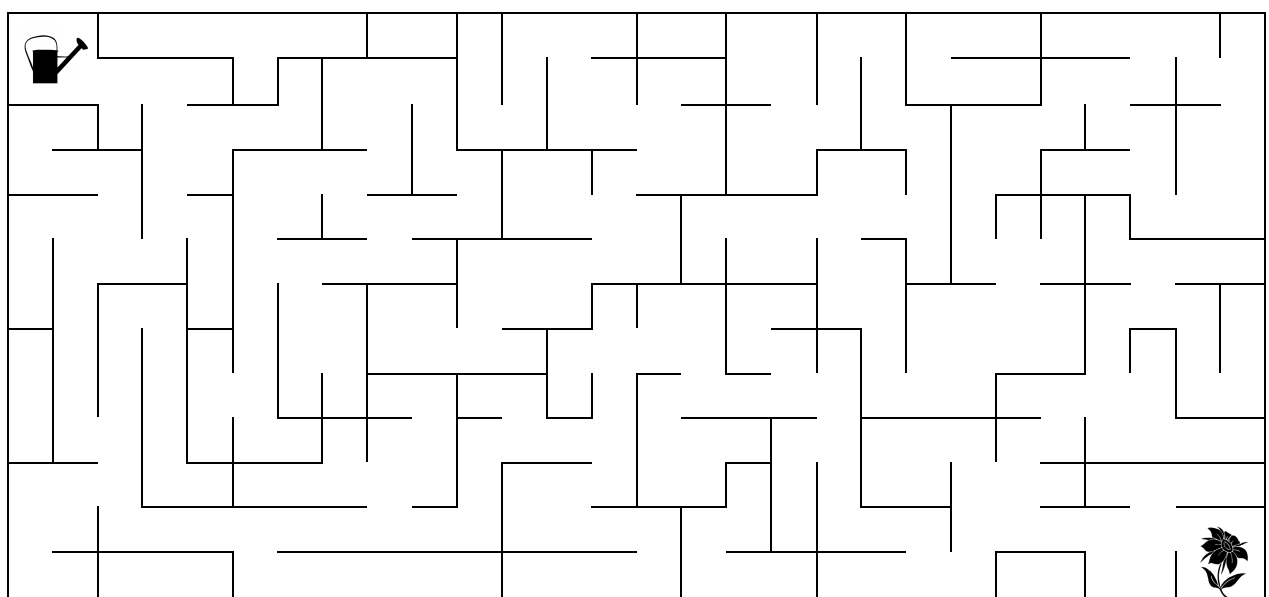
-----

-----

-----

-----

Coloree el camino que une la regadera con la flor.



Ficha\_de\_trabajo\_2020\_semana14\_C

Señale cuáles de estas operaciones son correctas. \_\_\_\_\_

- A. 20 + 7 + 12 + 1 + 16 + 9 + 20 = 86
- B. 21 + 6 + 14 + 3 + 15 + 8 + 21 = 88
- C. 22 + 5 + 15 + 4 + 14 + 7 + 22 = 90
- D. 23 + 4 + 16 + 5 + 13 + 6 + 23 = 92
- E. 24 + 3 + 17 + 6 + 12 + 5 + 24 = 94
- F. 25 + 2 + 18 + 7 + 11 + 4 + 25 = 95
- G. 26 + 1 + 19 + 8 + 10 + 3 + 26 = 93

A cada palabra del cuadro derecho le falta una letra con respecto al izquierdo, escriba en el centro cuál es y descubra con ellas una profesión. \_\_\_\_\_


I	N	C	O	L	O	R	O	---	C	O	L	O	R	Í	N
L	L	A	N	E	A	D	O	---	A	L	D	E	A	N	O
G	U	S	A	N	E	R	A	---	A	S	E	G	U	R	A
L	A	V	A	D	E	R	O	---	R	E	L	A	V	A	D
T	E	S	I	T	U	R	A	---	S	I	T	U	A	R	É
G	L	O	B	U	L	A	R	---	B	A	R	U	L	L	O
I	N	C	Ó	M	O	D	O	---	C	O	M	O	D	Í	N
A	R	S	É	N	I	C	O	---	S	I	N	C	E	R	A
D	E	S	T	A	C	A	R	---	C	A	R	E	T	A	S
L	A	B	R	A	D	Í	O	---	L	I	B	R	A	D	A

Ficha\_de\_trabajo\_2020\_semana14\_D

Escriba ordenada esta frase del filósofo Voltaire.

UNA COLOCADA MAL ESTROPEA PALABRA  
PENSAMIENTO MÁS EL BELLO

Escriba a la derecha el número de mariposas del cuadro. \_\_\_\_\_



Realice las operaciones necesarias para averiguar cuántos  
lados suman 3 triángulos, 4 cuadrados y 5 rectángulos?

\_\_\_\_\_

\_\_\_\_\_