

Ficha_de_trabajo_2019_semana50_A

Relaciones intergeneracionales

Las relaciones intergeneracionales caracterizan a los humanos. Miembros ...
de distintas generaciones han convivido juntos a lo largo del tiempo: ...
Gracias a ello, sobrevivimos como especie. Y es que somos seres frágiles ...
y vulnerables. Un niño no puede vivir sin un adulto que cuide de él, así ...
como un herido o un enfermo sin asistencia, ni un anciano sin apoyo. ...

Somos interdependientes; de un modo u otro, necesitamos que los ...
demás nos presten su ayuda en ciertos momentos de la vida. La evolución ...
nos hizo seres sociales. De no ser así, la humanidad se habría extinguido. ...
Y no es un rasgo exclusivo del homo sapiens; lo compartimos con algunas ...
otras especies de las muchas que pueblan nuestro planeta. ...

Pero en el siglo XXI las generaciones están cada vez separadas unas de ...
otras. Y es que los modos de vida, tipos de familia, valores y creencias se ...
renuevan permanentemente. Sin embargo, surge una duda sobre si la ...
sociedad actual satisface las necesidades del individuo o, por el contrario, ...
se rige por criterios ajenos a su conveniencia y bienestar. ...

Repase atentamente la lectura; después, escriba a la derecha cuántas ...
veces aparece la letra n (ene) en cada línea y súmelas. ...

Ficha_de_trabajo_2019_semana50_B









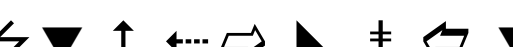
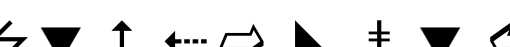


Observe el cuadro inferior y responda las siguientes preguntas.

¿Cuál es la cifra más alta? _____ ¿Y la más baja? _____

¿Cuántas acaban en 5? _____ ¿Cuántas tienen dos dígitos? _____

293	99	410	81	573	291	478	79	722	67	515
64	647	30	516	44	569	246	650	389	56	700
287	444	200	702	549	715	312	219	98	800	432
572	53	250	493	38	460	52	275	523	49	260
535	340	97	707	588	78	541	75	627	243	570
636	59	77	220	273	421	96	712	70	556	218

Compare las figuras de la izquierda con las de la derecha
y señale en cada fila si son iguales (=) o diferentes (≠).

	—	
	—	
	—	
	—	
	—	
	—	

Ficha_de_trabajo_2019_semana50_C

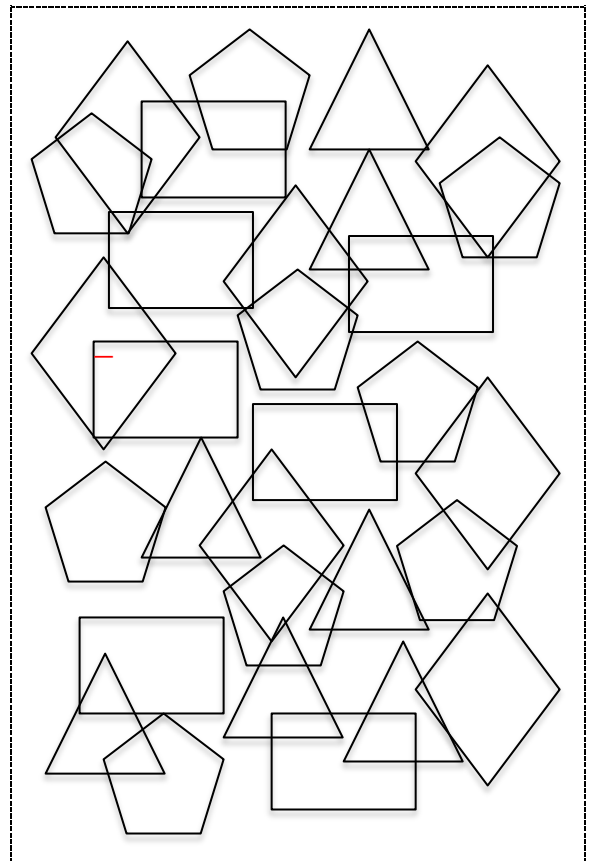
Indique cuáles de estas palabras no guardan relación con las restantes e indique la razón. _____

Cañón	Alimón	Capón	Ilusión	Reloj	Arpón	Talón
Sabor	León	Razón	Balcón	Almidón	Fogón	Galón
Acción	Ilusión	Guión	Ladrón	Melón	Telón	Unión

Enlace los números de la columna central con las sumas que tengan igual resultado.

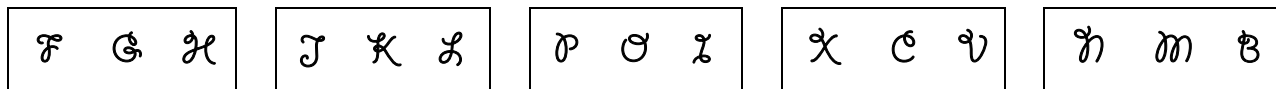
15 + 13	31	21 + 11
23 + 10	32	12 + 12
14 + 8	33	24 + 12
19 + 8	34	10 + 12
15 + 16	35	10 + 18
16 + 21	36	7 + 28
26 + 8	37	12 + 14

Escriba el número de rombos contenidos en el cuadro. _____



Ficha_de_trabajo_2019_semana50_D

Encuentre estos grupos de figuras en el cuadro inferior.



Lea atentamente el texto inferior. Tápelolo para evitar leerlo de nuevo y a continuación, señale los dibujos que se han citado en él.

Las nubes amenazaban lluvia. Carmen compró plátanos y regresó a su casa. Una vez allí, se quitó el abrigo y los zapatos, bebió un vaso de agua, encendió la estufa y se sentó en el sofá junto a su gato a leer un libro.

