

Ficha_de_trabajo_2019_semana35_As

La mujer más longeva de la historia

Jeanne Calment ha sido la mujer más longeva de la que se tiene constancia 0
documentada. Nació en Arlés, en el sur de Francia, el 21 de febrero de 0
1875 y murió el 4 de agosto de 1997; es decir, vivió 122 años, 5 meses y 14 0
días. 0

Su vida ha sido objeto de estudio en repetidas ocasiones, pero no hay 0
acuerdo sobre qué factores influyeron en su longevidad. Tres de sus 0
familiares también fueron longevos, aunque no tanto como ella. Su padre 0
vivió 93 años, su madre 86 y su hermano mayor 97. 0

Jeanne no dejó descendencia. Su única hija murió de neumonía a los 36 0
años. Tras su fallecimiento, se hizo cargo del hijo de esta, un niño de tan 1
solo 7, que también murió joven tras sufrir un accidente de coche. 0

De familia acomodada, practicó esgrima hasta los 85 años; montó en 0
bicicleta hasta los 100, ingresó en una residencia de ancianos a los 110 y no 0
dejó de fumar hasta los 117. Solía bromear diciendo que competía con 0
Matusalén. 0

Repase atentamente la lectura; después, escriba a la derecha cuántas veces 1
aparece la letra z (zeta) en cada línea y súmelas.

Ficha_de_trabajo_2019_semana35_Bs

Intercale las letras del cuadro entre las escritas debajo de modo que se pueda leer una frase hecha.


Pista: la frase hace referencia a sorprenderse por algo.

E	A	U	B	A	T	N	I
---	---	---	---	---	---	---	---

Q E D R S C O L A O C A B E R A

QUEDARSE CON LA BOCA ABIERTA

Divida el marco de la derecha en 3 columnas y 4 filas iguales; después, dibuje figuras que llenen casi todo el espacio del modo siguiente: una cruz en el cuadro superior izquierdo, a su derecha una estrella de 5 puntas y debajo de esta una flecha que mire hacia abajo. A la derecha de la estrella dibuje un círculo, debajo de la cruz una flecha que mire a la izquierda y debajo del círculo un triángulo. En el resto de los cuadros reproduzca las figuras con la misma distribución.



Sustituya en este refrán una palabra errónea:

No por mucho madrugar, amanece más **temprano**

Ficha_de_trabajo_2019_semana35_Cs

Descubra el nombre de una planta muy florida
sustituyendo los espacios vacíos por la letra
adecuada. Por ejemplo: A 1 = N ; B 4 = A

	1	2	3	4
A	N	B	V	U
B	G	L	I	A

A 2 A 4 B 1 B 4 A 1 A 3 B 3 B 2 B 2 B 4
B U G A N V I L L A

Rellene los cuadros vacíos con las instrucciones siguientes:

Quando el número sea inferior a 10 añada a su derecha un 4; si es superior a 30, añada un 3; junto a los situados entre 11 y 20, añada un 2; por último, añada un 1 si el número se encuentra entre el 21 y el 29.

¿Cuánto suman los números añadidos? 72

31	<input type="text" value="3"/>	1	<input type="text" value="4"/>	21	<input type="text" value="1"/>	2	<input type="text" value="4"/>	7	<input type="text" value="4"/>
		33	<input type="text" value="3"/>	8	<input type="text" value="4"/>	12	<input type="text" value="2"/>		
	11	<input type="text" value="2"/>	25	<input type="text" value="1"/>	37	<input type="text" value="3"/>	22	<input type="text" value="1"/>	
	24	<input type="text" value="1"/>	6	<input type="text" value="4"/>	35	<input type="text" value="3"/>	9	<input type="text" value="4"/>	
3	<input type="text" value="4"/>	14	<input type="text" value="2"/>	38	<input type="text" value="3"/>	27	<input type="text" value="1"/>		
	23	<input type="text" value="1"/>	15	<input type="text" value="2"/>	29	<input type="text" value="1"/>	32	<input type="text" value="3"/>	
	5	<input type="text" value="4"/>	18	<input type="text" value="2"/>	4	<input type="text" value="4"/>	26	<input type="text" value="1"/>	



















































Ficha_de_trabajo_2019_semana35_Ds

Convierta cada palabra en otras distintas con las mismas letras.

Madero	Internas	Pantera	Insecto	Presidente
<u>Demora</u>	<u>Insertan</u>	<u>Aparten</u>	<u>Cientos</u>	<u>Despierten</u>
<u>Remado</u>	<u>Sentirán</u>	<u>Atrapan</u>	<u>Étnicos</u>	<u>Pretendéis</u>
<u>Modera</u>	<u>Trinassen</u>	<u>Trepana</u>	<u>Contéis</u>	<u>Predestine</u>

Descubra qué números se corresponden con 2 imágenes que se repiten 3 veces.

 4, 17, 36  11, 30, 49

									
1	2	3	4	5	6	7	8	9	10
									
11	12	13	14	15	16	17	18	19	20
									
21	22	23	24	25	26	27	28	29	30
									
31	32	33	34	35	36	37	38	39	40
									
41	42	43	44	45	46	47	48	49	50