

Ficha\_de\_trabajo\_2019\_semana22\_A

## *Medicamentos en la vejez: ¿demasiados?*

Los medicamentos en la vejez se utilizan más de lo necesario. Y este es un ...  
problema que afecta a la salud y la calidad de vida. Los datos hablan por sí ...  
solos. Un tercio de las personas mayores de 65 o más años toma todos los ...  
días más de cinco fármacos. ...

La situación recibe el nombre de polimedición y entraña graves riesgos. ...  
Los medicamentos no son inofensivos y su uso debería estar bajo control. ...  
Pero no siempre ocurre así. A veces, por prácticas que no por usuales ...  
dejan de ser dañinas como, por ejemplo, seguir las recomendaciones de ...  
amigos o conocidos. ...

Las pautas de uso de los medicamentos son individuales. Conviene ...  
recordar un principio que afirma que no hay enfermedades, sino enfermos. ...

El exceso de medicamentos es una constante en la sociedad de hoy. Una ...  
iniciativa respaldada por la Organización de Consumidores y Usuarios junto ...  
con diferentes plataformas sanitarias nos advierte de los riesgos de su uso ...  
excesivo en la dirección de Internet <http://pastillaslasjustas.org>. ...

Repase atentamente la lectura; después, escriba a la derecha cuántas ...  
veces aparece la letra j (jota) en cada línea y súmelas. ...

Ficha\_de\_trabajo\_2019\_semana22\_B

Rellene el cuadro de la derecha del modo indicado.

Escriba el número 5 en cada una de las esquinas.

Tache con una X grande los cuadros libres de la primera fila. Sombree la segunda fila. Dibuje un sol, una luna y una estrella en los cuadros vacíos de la última fila. En los cuadros restantes escriba las primeras cinco letras del alfabeto.


Corrija 8 errores ortográficos que aparecen en estas palabras.

Carbón	Coleción	Anparo	Invento	Paliatibo
Soborno	Bolcán	Eclipse	Arrova	Extraño
Labandería	Malva	Tanbién	Yedra	Jelatina

¿Cuánto suman los números de los cuadros sombreados?

---

1	2	5	6	7	8	3	8	1	9	8	1	7	5	2	5
3	9	2	5	4	3	6	4	4	2	9	6	3	1	9	2
5	2	7	3	5	8	3	1	9	4	7	3	8	6	4	1
7	1	3	6	8	2	7	6	4	2	4	1	5	2	9	3

Ficha\_de\_trabajo\_2019\_semana22\_Cs




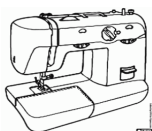


Complete esta poesía de José de Espronceda (1808 – 1842)  
situando en el lugar adecuado las siguientes palabras:

Mar, luna, azul, confín, velero, cañones, bravura,  
vela, viento, pirata, Europa, frente, popa.

Con diez \_\_\_\_\_ por banda,  
viento en popa, a toda \_\_\_\_\_,  
no corta el \_\_\_\_\_ sino vuela,  
un \_\_\_\_\_ bergantín;  
bajel pirata que llaman,  
por su \_\_\_\_\_, el *Temido*,  
en todo mar conocido  
del uno al otro \_\_\_\_\_.

La \_\_\_\_\_ en el mar ríela,  
en la lona gime el \_\_\_\_\_  
y alza en blando movimiento  
olas de plata y \_\_\_\_\_;  
y va el capitán \_\_\_\_\_  
cantando alegre en la \_\_\_\_\_,  
Asia a un lado, al otro \_\_\_\_\_  
y allá a su \_\_\_\_\_ Estambul.

¿Cuántas de estas imágenes pueden verse en un colegio? \_\_\_\_



Ficha\_de\_trabajo\_2019\_semana22\_D

Complete cada frase de modo que tenga un significado razonable.

En un campo de \_\_\_\_\_ hay 22 jugadores    El \_\_\_\_\_ tiene 7 colores

Los puntos \_\_\_\_\_ son 4    En una \_\_\_\_\_ hay 60 \_\_\_\_\_

\_\_\_\_\_ es el último mes del año.    \_\_\_\_\_ por \_\_\_\_\_ son 100

Coloree cuatro cuadros que sumen 123.

58	66	34	28	20	80	33	43	36	22
----	----	----	----	----	----	----	----	----	----


Complete el cuadro de la izquierda con los números 2, 3, 4, 5 y 6 de modo que aparezcan en cada fila (de izquierda a derecha) y en cada columna (de arriba abajo) sin que falte ni se repita ninguno.

Escriba el nombre de 10 animales que acaben en o, como cerdo.

-----

-----