

Ficha_de_trabajo_2019_semana1_A

Gracias a la vida (y II)

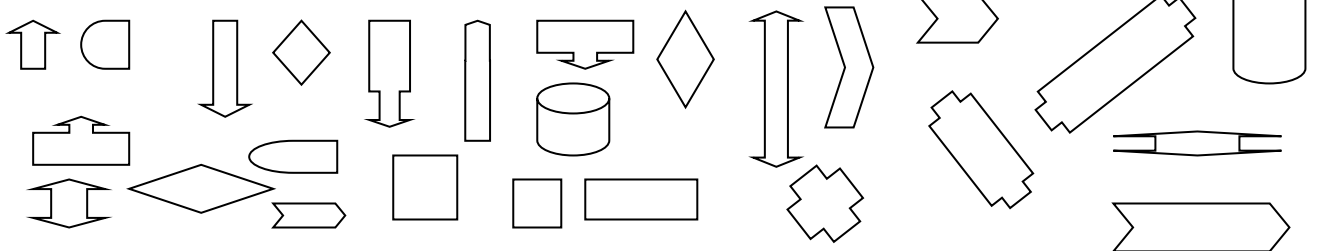
Gracias a la vida que me ha dado tanto
Me ha dado la marcha de mis pies cansados;
Con ellos anduve ciudades y charcos,
Playas y desiertos, montanas y llanos,
Y la casa tuya, tu calle y tu patio

Gracias a la vida que me ha dado tanto
Me dio el corazón que agita su marco
Cuando miro el fruto del cerebro humano,
Cuando miro al bueno tan lejos del malo,
Cuando miro al fondo de tus ojos claros

Gracias a la vida que me ha dado tanto
Me ha dado la risa y me ha dado el llanto
Así yo distingo dicha de quebranto,
Los dos materiales que forman mi canto,
Y el canto de ustedes que es mi mismo canto,
Y el canto de todos que es mi propio canto

Repase atentamente la lectura; después,
escriba a la derecha cuántas veces aparece
la letra i en cada línea y súmelas.

Coloree la figura
que no se repite.



Ficha_de_trabajo_2019_semana1_B

Complete las letras que faltan para descubrir esta adivinanza.
(Pista: quien recurre a ella nos engaña). _____

P _ _ R J _ _ I C _ _ O _ _ E _ _ O R _ _ E S T _ _ A E,
Y E _ _ Q _ _ _ E _ _ E L _ _ A S _ _
S _ _ S T _ _ E N _ _ , A _ _ F _ _ N A _ _
S _ _ E M _ _ R E S _ _ C _ _ E.

Descubra qué números no se repiten. _____

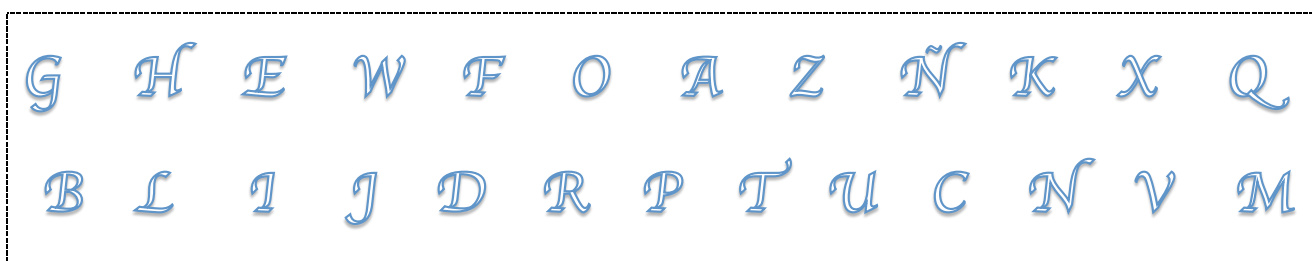
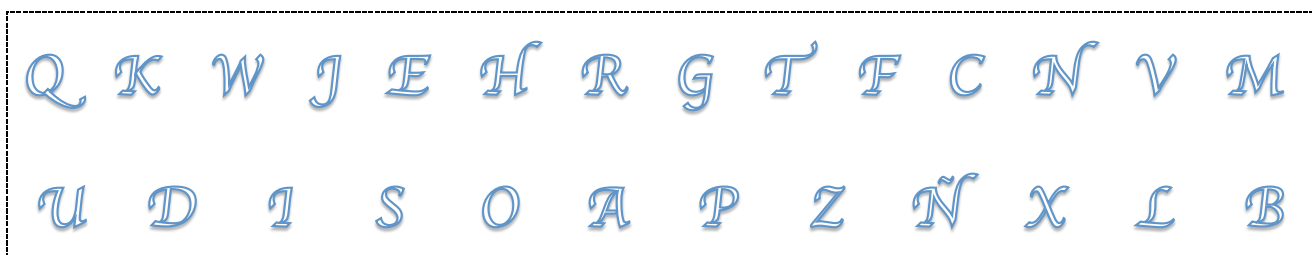
113 123 127 114 122 118 125 135 115 128 132
133 117 129 131 120 124 121 116 113 134 123
125 130 115 116 134 126 132 129 127 117 133
119 121 128 126 118 131 114 124 122 135 136

Señale la palabra intrusa en cada fila (de izquierda a derecha)

Zafiro	Esmeralda	Rubí	Ágata	Carbón	Topacio
Gavilán	Águila	Buitre	Búho	Lechuza	Jilguero
Cuaderno	Agenda	Lapicero	Libro	Periódico	Libreta
Verde	Negro	Rojo	Oscuro	Blanco	Azul
Tulipán	Ramo	Margarita	Clavel	Rosa	Petunia
Calle	Dormitorio	Cocina	Baño	Salón	Pasillo

Ficha_de_trabajo_2019_semana1_C

Encuentre la letra que no aparece en el cuadro inferior. **--**



Rellene los cuadros vacíos con los números que faltan del 1 al 9, sin repetir ninguno, de modo que los resultados se cumplan.

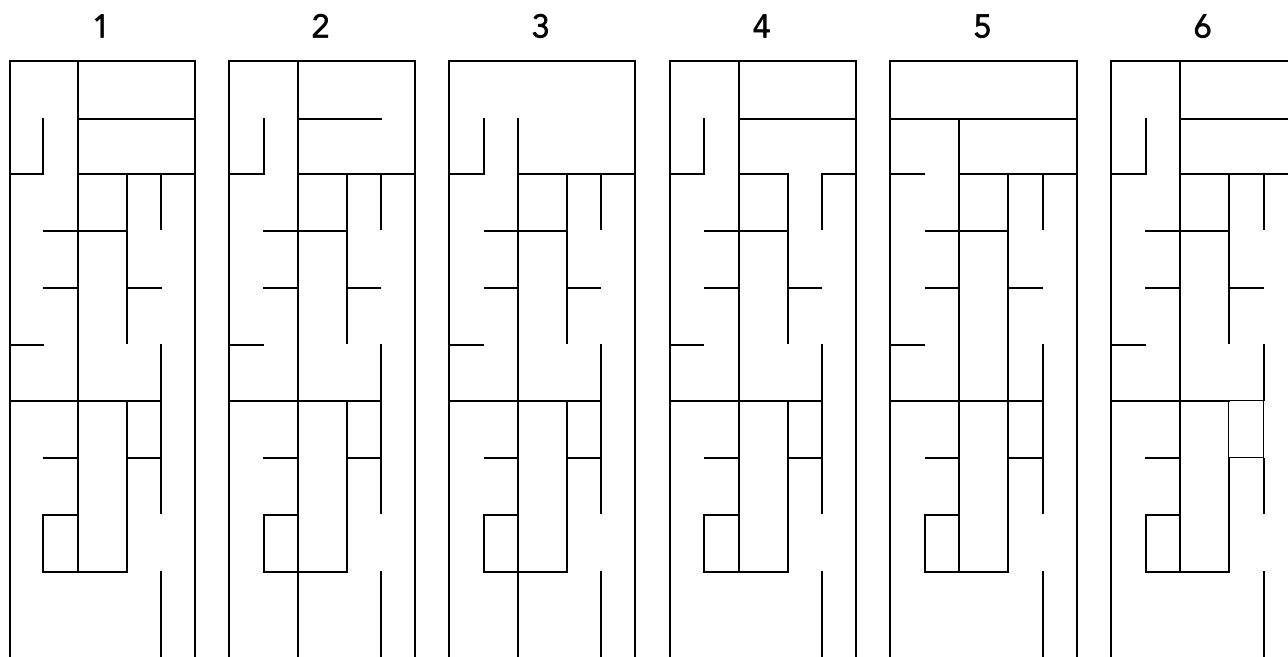
$$\begin{array}{r}
 \square + \square - \square = 12 \\
 - \quad + \quad - \\
 \square - \square + \square = 5 \\
 + \quad - \quad + \\
 \square + \square - \square = 10 \\
 = \quad = \quad = \\
 10 \quad 4 \quad 5
 \end{array}$$

Utilizando todas las letras convierta la palabra inferior en otras seis diferentes.

E S P E S A R

Ficha_de_trabajo_2019_semana1_D

Señale cuales de estas figuras son iguales. -----



¿Cuánto suman los números encerrados en cuadros? -----

35	22	52	11	63	25	66	1	28	47	38	71	17	87
30	61	88	73	40	80	33	59	94	10	78	50	4	90
5	89	64	20	23	74	60	6	19	41	29	84	58	37
51	72	39	42	83	79	31	16	46	36	15	18	75	24
48	14	95	56	2	86	53	12	96	13	91	57	8	92
55	97	43	32	93	26	81	70	45	85	3	65	68	76
27	82	7	54	67	44	10	62	21	69	34	77	49	9