

Ficha_de_trabajo_2018_semana51_A

Contaminación del aire y salud

La contaminación del aire entraña graves riesgos para la salud de las personas. Cerca del 91% de la población mundial respira un aire insalubre, que provoca alrededor de 7 millones de muertes anuales .

Las concentraciones de población en extensos núcleos urbanos generan grandes problemas medioambientales. Uno de los más preocupantes es el efecto nocivo del tráfico rodado y los sistemas de calefacción y aire acondicionado.

Estas actividades humanas producen diariamente enormes cantidades de humo que liberan al aire gases y partículas tóxicas. Una vez allí, llegan al organismo a través de la respiración.

Disminuir los actuales niveles de contaminación es una responsabilidad de Salud Pública que requiere intervenciones drásticas, como limitar el tráfico, aunque resulte una medida impopular. Se trata de proteger la salud de los ciudadanos y, muy especialmente, la de los más débiles. Y esta obligación debería prevalecer frente a cualquier otro tipo de interés.

Repase atentamente la lectura; después, escriba a la derecha cuántas veces aparece la letra h (hache) en cada línea y súmelas.

Ficha_de_trabajo_2018_semana51_B

Observe el cuadro inferior y responda las siguientes preguntas.

¿Cuántos números de dos cifras hay? _____ ¿Cuál es el mayor de ellos? _____

¿Y el más pequeño? _____ ¿Cuántos acaban en 0? _____

1	11	67	49	31	57	20	7	40	82	23	63
74	45	18	76	2	64	12	53	81	37	6	83
92	22	84	33	75	42	73	13	3	54	70	42
86	41	4	60	15	58	26	78	52	21	14	71
93	48	55	16	77	8	72	47	35	65	95	32
9	17	85	56	27	52	90	24	66	5	51	62

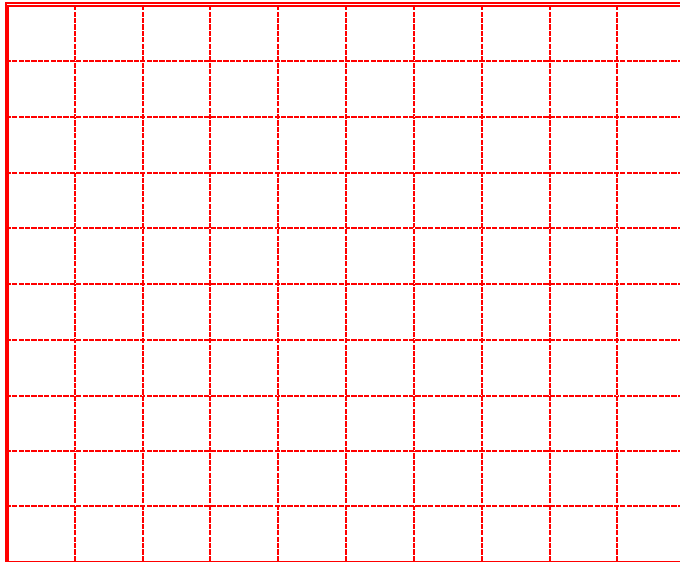
Señale con igual número en ambas columnas las palabras formadas por las mismas letras.

Escriba 9 nombres propios femeninos que comiencen por N.

1	PARADA		OPINAD
2	NÉCORA		INMOLO
3	PODÍAN		PELOTA
4	REMOTA		VIAJAS
5	CANELA		RAPADA
6	MOLINO		REMATO
7	ALEMÁN		ALMENA
8	VASIJA		CÓRNEA
9	PÉTALO		ENCALA

1. _____
2. _____
3. _____
4. _____
5. _____
6. _____
7. _____
8. _____
9. _____

Ficha_de_trabajo_2018_semana51_C



Coloree cincuenta casillas del cuadrado izquierdo de modo que en cada fila y en cada columna aparezcan sombreados únicamente cinco cuadros.

(Hay más de una solución)

Señale y corrija los errores ortográficos que aparecen debajo.

Carnaval	Sobervia	Gilguero	Envase	Dádiba	Evanista
Gabilán	Vatidora	Arboleda	Cuvo	Rebuzno	Lavadora
Coñaz	Adobar	Inporte	Invento	Hambiente	Transporte

Ordene los siguientes números de mayor a menor.







































































3041	99	10643	21673	1025	974
15670	670	10520	120	4.897	5634
287	7521	8732	12678	11.256	592

Ficha_de_trabajo_2018_semana51_D

Indique cuáles de estas palabras no guardan relación con las restantes e indique la razón. -----

Lirio Acopio Envío Palacio Alivio Cadmio Asirio
 Superior Bravío Refugio Auxilio Acuario Cirio Armario
 Confío Enfrío Brío Agrio Estío Anfibio Prior

Escriba en los espacios vacíos el número correspondiente a la imagen que completa la siguiente secuencia.

									
	1	2	3	4	5	6	7	8	
			---					---	
		---					---		
	---					---			
	---					---			---
						---			
	---				---				
---				---					---
		---			---				---