

Ficha_de_trabajo_2018_semana47_As

La televisión favorece el sobrepeso

La afirmación de que la televisión favorece el sobrepeso puede parecer 3
 rotunda, aunque se basa en razones 1 contrastadas por numerosos estudios. 1
 El sedentarismo se ha 1 convertido en un importante riesgo sanitario. 1

Según la Organización Mundial de la Salud, el 6% de las muertes 1
 registradas en todo el mundo es imputable a sus efectos 1 adversos. Ver 1
 televisión demasiado tiempo se asocia a inmovilidad: nadie ve televisión 1
 mientras 2 camina. Y, a mayor inactividad, los problemas de salud se 1
 intensifican. 1



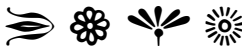











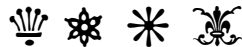

Además, la televisión fomenta el 2 consumo de 2 comida rápida, que es una 2
 práctica 4 poco saludable. Mientras se atiende a la pantalla es 4 fácil abusar de 4
 helados, aperitivos 3 ricos en grasa y sal o refrescos 3 azucarados, sin apenas 3
 darnos 1 cuenta. 1

Es un error 3 considerar la televisión 3 como una 3 opción más para el tiempo 3
 libre, ya que impide un envejecimiento 3 activo. Resulta más 3 adecuado 3
 relacionarnos 5 con otras personas, hacer 5 actividad física 5, mantener la mente 5
5 activa o participar en un 5 club de 5 lectura, entre otros 5 muchos ejemplos. 5

Repase atentamente la lectura; después, escriba a la derecha cuántas 37
 veces aparece la letra c (ce) en cada línea y súmelas. 37

Ficha_de_trabajo_2018_semana47_Bs

Descubra en cada línea (de izquierda a derecha) cuál es el cuadro igual al modelo situado a la izquierda.

Dos columnas de esta suma se hallan en una posición errónea.

Señale cuales son y sitúelas correctamente a la derecha

<table style="border-collapse: collapse; margin-left: auto;"> <tr><td style="padding: 5px;">1</td><td style="padding: 5px;">4</td><td style="padding: 5px;">8</td><td style="padding: 5px;">5</td><td style="padding: 5px;">2</td><td style="padding: 5px;">7</td></tr> <tr><td style="padding: 5px;">9</td><td style="padding: 5px;">3</td><td style="padding: 5px;">2</td><td style="padding: 5px;">7</td><td style="padding: 5px;">0</td><td style="padding: 5px;">1</td></tr> <tr><td style="padding: 5px;">5</td><td style="padding: 5px;">6</td><td style="padding: 5px;">4</td><td style="padding: 5px;">2</td><td style="padding: 5px;">7</td><td style="padding: 5px;">8</td></tr> <tr><td style="padding: 5px;">3</td><td style="padding: 5px;">1</td><td style="padding: 5px;">5</td><td style="padding: 5px;">3</td><td style="padding: 5px;">8</td><td style="padding: 5px;">4</td></tr> <tr><td style="padding: 5px;">+</td><td style="padding: 5px;">0</td><td style="padding: 5px;">9</td><td style="padding: 5px;">1</td><td style="padding: 5px;">4</td><td style="padding: 5px;">3</td></tr> <tr><td colspan="6" style="border-top: 1px solid black; padding-top: 5px;"></td></tr> <tr><td style="padding: 5px;">2.</td><td style="padding: 5px;">3</td><td style="padding: 5px;">5</td><td style="padding: 5px;">2.</td><td style="padding: 5px;">0</td><td style="padding: 5px;">2</td></tr> </table>	1	4	8	5	2	7	9	3	2	7	0	1	5	6	4	2	7	8	3	1	5	3	8	4	+	0	9	1	4	3							2.	3	5	2.	0	2	<table style="border-collapse: collapse; margin-left: auto;"> <tr><td style="padding: 5px;">5</td><td style="padding: 5px;">4</td><td style="padding: 5px;">8.</td><td style="padding: 5px;">1</td><td style="padding: 5px;">2</td><td style="padding: 5px;">7</td></tr> <tr><td style="padding: 5px;">7</td><td style="padding: 5px;">3</td><td style="padding: 5px;">2.</td><td style="padding: 5px;">9</td><td style="padding: 5px;">0</td><td style="padding: 5px;">1</td></tr> <tr><td style="padding: 5px;">2</td><td style="padding: 5px;">6</td><td style="padding: 5px;">4.</td><td style="padding: 5px;">5</td><td style="padding: 5px;">7</td><td style="padding: 5px;">8</td></tr> <tr><td style="padding: 5px;">3</td><td style="padding: 5px;">1</td><td style="padding: 5px;">5.</td><td style="padding: 5px;">3</td><td style="padding: 5px;">8</td><td style="padding: 5px;">4</td></tr> <tr><td style="padding: 5px;">+</td><td style="padding: 5px;">4</td><td style="padding: 5px;">9</td><td style="padding: 5px;">1.</td><td style="padding: 5px;">0</td><td style="padding: 5px;">3</td></tr> <tr><td colspan="6" style="border-top: 1px solid black; padding-top: 5px;"></td></tr> <tr><td style="padding: 5px;">2.</td><td style="padding: 5px;">3</td><td style="padding: 5px;">5</td><td style="padding: 5px;">2.</td><td style="padding: 5px;">0</td><td style="padding: 5px;">2</td></tr> </table>	5	4	8.	1	2	7	7	3	2.	9	0	1	2	6	4.	5	7	8	3	1	5.	3	8	4	+	4	9	1.	0	3							2.	3	5	2.	0	2
1	4	8	5	2	7																																																																																
9	3	2	7	0	1																																																																																
5	6	4	2	7	8																																																																																
3	1	5	3	8	4																																																																																
+	0	9	1	4	3																																																																																
2.	3	5	2.	0	2																																																																																
5	4	8.	1	2	7																																																																																
7	3	2.	9	0	1																																																																																
2	6	4.	5	7	8																																																																																
3	1	5.	3	8	4																																																																																
+	4	9	1.	0	3																																																																																
2.	3	5	2.	0	2																																																																																

Ordene correctamente este refrán y escríbalo debajo.

SU CORDURA SALUD CON
 PROCURA POR COME QUIEN



QUIEN COME CON CORDURA, POR SU SALUD PROCURA

Ficha_de_trabajo_2018_semana47_Cs

Un tren sale a las 8,40 de la mañana. El viaje dura 4 horas y 17 minutos, pero en el trayecto hace tres paradas de 2 minutos.

¿A qué hora llega a su destino? 13 horas y 3 minutos.

Anote debajo de cada dibujo seis palabras referidas al mismo.

AntenaCanalesProgramasPelículasInformaciónImágenesComidaCocinaFuegoSopaTapaderaIngredientesFrutosRamasNaturalezaRaícesTroncoHojasLecturaDistracciónPalabrasAprendizajePáginasRelatosIluminaciónCristalesMarcoVisillosMaderaFrío

Subraye los números que contienen en su escritura la letra e.

Cinco

Ciento unoCero

Uno

Dos

Nueve

Cinco mil

Ciento cuatroOnce

Dos mil

Cuatro

Treinta

Mil

Catorce

Millón

Cuatro mil

Cien

Ocho

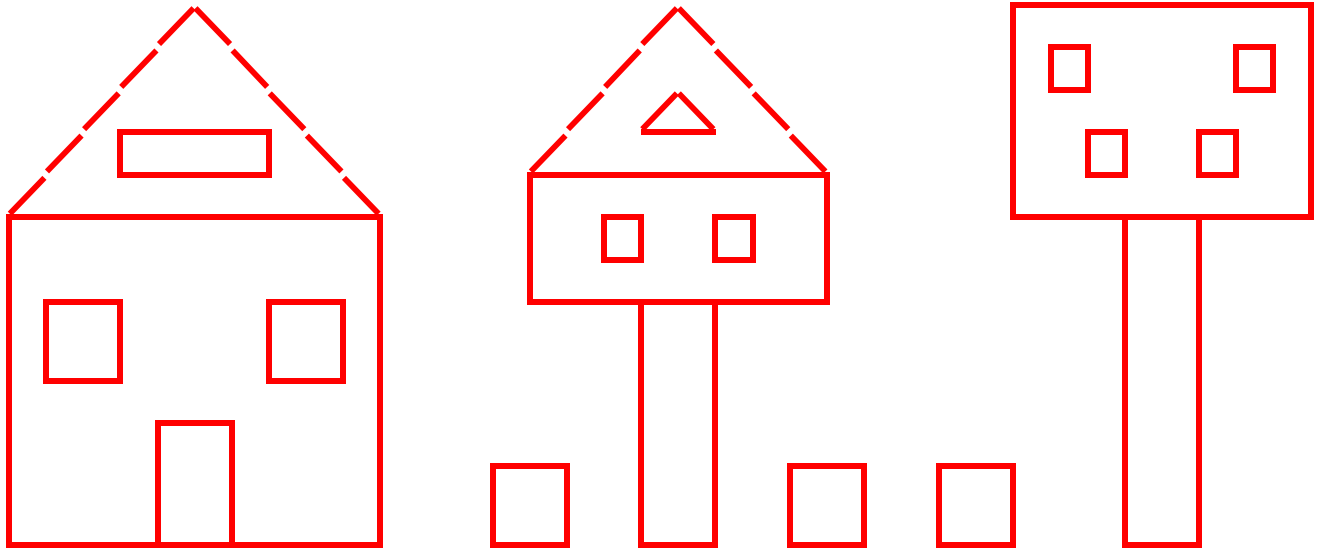
Mil dos

Tres

Ficha_de_trabajo_2018_semana47_Ds

Observe el dibujo e indique cuántas figuras de cada clase tiene.

Triángulos 3, cuadrados 12 y rectángulos 6.



Subraye el resultado correcto de cada operación.

10	+11	+12	+13	=	47	46
14	+15	+16	+17	=	62	63
18	+19	+20	+21	=	78	77
22	+23	+24	+25	=	93	94
26	+27	+28	+29	=	110	111
30	+31	+32	+33	=	125	126
34	+35	+36	+37	=	143	142

11	+12	+13	+14	=	50	49
15	+16	+17	+18	=	66	67
19	+20	+21	+22	=	83	82
23	+24	+25	+26	=	98	99
27	+28	+29	+30	=	114	112
31	+32	+33	+34	=	129	130
35	+36	+37	+38	=	146	147