

Ficha_de_trabajo_2018_semana11_As

Mujeres unidas por la huelga

El 8 de marzo se celebra cada año el Día Internacional de la Mujer. La conmemoración fue instaurada por la Organización de Naciones Unidas en 1975 y es una ocasión para que mujeres de todo el mundo puedan exigir una igualdad de derechos.

Coincidiendo con la cita, el movimiento feminista ha convocado en 2018 una huelga internacional que pretende ir más allá del ámbito laboral; anima a realizar, además, un paro estudiantil, de cuidados y de consumo.

177 países participan en la convocatoria bajo el lema "Si paramos, se para el mundo". En España, los sindicatos respaldan la huelga; respecto a los partidos políticos, PSOE y Podemos la apoyan, mientras que el Partido Popular y Ciudadanos la rechazan.

Las mujeres mayores conocen bien las diferencias de género. Crecieron en un contexto histórico que ignoraba el concepto igualdad. En aquel tiempo, recaía sobre ellas en exclusiva la responsabilidad de los cuidados familiares, el marido, los hijos y el hogar.

Escriba a la derecha cuántas veces aparece la letra m (eme) en cada línea y súmelas después.

Ficha_de_trabajo_2018_semana11_Bs

Sombree los cuadros indicados y descubra el nombre de un país.

	A	B	C	D	E	F	G	H	I	J	K	L	M	N	O	P	Q	R	S
1																			
2																			
3																			
4																			
5																			

Fila 1: A, C, D, E, G, H, I, K, O, Q, R y S; filas 2 y 4: A, D, G, I, K, O, Q y S;
fila 3: A, D, G, H, I, K, O, Q, R y S; fila 5: A, D, G, I, K, L, M, O, Q y S.

Rellene los espacios vacíos en cada fila (de izquierda a derecha),
completando la serie establecida.






















<u>A</u>	501	506	511	<u>516</u>	521	526	<u>531</u>	<u>536</u>	541
<u>B</u>	645	<u>648</u>	651	654	657	<u>660</u>	<u>663</u>	666	<u>669</u>
<u>C</u>	733	737	<u>741</u>	745	749	<u>753</u>	<u>757</u>	761	765
<u>D</u>	<u>811</u>	815	819	823	<u>827</u>	831	<u>835</u>	<u>839</u>	843
<u>E</u>	901	<u>903</u>	905	<u>907</u>	909	<u>911</u>	913	915	<u>917</u>
<u>F</u>	1019	1021	<u>1023</u>	1025	<u>1027</u>	1029	<u>1031</u>	1033	1034
<u>G</u>	1170	<u>1180</u>	1190	<u>1200</u>	1210	1220	1230	<u>1240</u>	1250
<u>H</u>	<u>1289</u>	1287	<u>1285</u>	1283	1281	1279	<u>1277</u>	1275	<u>1273</u>

Ficha_de_trabajo_2018_semana11_Cs

Subraye la palabra sin relación con las demás
en cada columna (de arriba abajo).

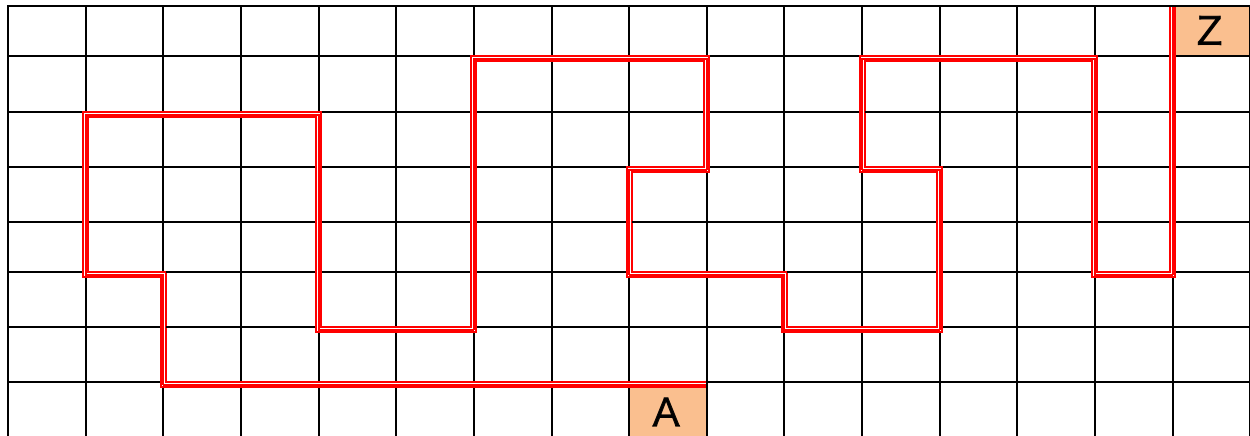
Verde	Agua	Alfredo	Collar	Ardiente	Valiente
Rojo	Tila	Felipe	Pulsera	<u>Insensible</u>	Bravo
Granate	Leche	<u>Carmela</u>	Anillo	Templado	Fuerte
Azul	Cerveza	Juan	<u>Luz</u>	Glacial	Lanzado
<u>Transparente</u>	Té	Guillermo	Broche	Tibio	Gallardo
Amarillo	<u>Vaso</u>	Pedro	Diadema	Caliente	Enérgico
Blanco	Café	Fidel	Pendientes	Frío	<u>Miedoso</u>

Señale las figuras que coinciden con la palabra escrita debajo.

 cubo	 cruz	 triángulo	 rombo	 cruz	 cuadrado	 círculo
 cruz	 círculo	 cubo	 estrella	 triángulo	 rombo	 flecha
 cuadrado	 flecha	 cruz	 círculo	 cubo	 cuadrado	 estrella

Ficha_de_trabajo_2018_semana11_Ds

Complete el orden de la línea que une la A con la Z representada en el rectángulo inferior.



- | | |
|--------------------------------------|--|
| 1°. 7 cuadros a la izquierda | 12°. <u>2 cuadros hacia abajo</u> |
| 2°. <u>2 cuadros hacia arriba</u> | 13°. <u>2 cuadros a la derecha</u> |
| 3°. 1 cuadro a la izquierda | 14°. <u>1 cuadro hacia abajo</u> |
| 4°. <u>3 cuadros hacia arriba</u> | 15°. <u>2 cuadros a la derecha</u> |
| 5°. 3 cuadros a la derecha | 16°. <u>3 cuadros hacia arriba</u> |
| 6°. <u>4 cuadros hacia abajo</u> | 17°. <u>1 cuadro a la izquierda</u> |
| 7°. 2 cuadros a la derecha | 18°. <u>2 cuadros hacia arriba</u> |
| 8°. <u>5 cuadros hacia arriba</u> | 19°. <u>3 cuadros hacia la derecha</u> |
| 9°. 3 cuadros a la derecha | 20°. <u>4 cuadros hacia abajo</u> |
| 10°. <u>2 cuadros hacia abajo</u> | 21°. <u>1 cuadro hacia la derecha</u> |
| 11°. <u>1 cuadros a la izquierda</u> | 22°. <u>5 cuadros hacia arriba</u> |

Comienza por F, ¿qué palabra es?

Camino de hierro Ferrocarril