

Ficha_de_trabajo_2017_semana43_A

El aprendizaje en la vejez

Muchas personas, incluidos con frecuencia los propios mayores, piensan
que la edad avanzada resulta inadecuada para asimilar nuevos
conocimientos. Sin embargo, esta equivocada idea obedece a uno de
los muchos estereotipos existentes sobre la vejez.

La capacidad de aprendizaje, si bien en distinto grado, está presente a
lo largo de todo el ciclo vital; en cualquier caso, se relaciona con las
características biográficas de cada persona.

Numerosas áreas de conocimiento pueden ser susceptibles de despertar
nuestro interés durante el proceso de envejecimiento; abordar nuevos
aprendizajes no tiene más límites que la motivación de cada cual.

Además del uso de las nuevas tecnologías, que nos permite estar al día
respecto a posibilidades informáticas, la historia, la música, la pintura o
el ajedrez son algunos ejemplos de las muchas variedades de
aprendizaje entre las que elegir. Todas ellas son una buena opción para
lograr una óptima estimulación cognitiva.

**Tras repasar atentamente la lectura, escriba a la derecha cuántas veces aparece
la letra l (ele) en cada línea y súmelas después.**

Ficha_de_trabajo_2017_semana43_B

Solo dos de las copias de este largo número son idénticas.

Descubra cuales. _____

A	9	7	5	3	1	2	4	6	8	0	8	6	4	2	1	3	5	7
B	9	7	5	3	1	2	4	6	8	9	8	6	4	2	1	3	5	7
C	9	7	5	8	1	2	4	6	8	0	8	6	4	2	1	3	5	7
D	9	7	5	3	1	2	4	6	8	0	8	6	4	2	1	3	6	7
E	9	7	5	3	1	2	4	6	8	0	8	5	4	2	1	3	5	7
F	9	7	5	3	1	2	7	6	8	0	8	6	4	2	1	3	5	7
G	9	7	5	3	1	2	4	6	8	0	8	6	4	2	1	3	5	7
H	9	7	5	3	1	2	4	6	8	6	8	6	4	2	1	3	5	7
I	9	7	5	3	1	2	4	6	8	0	8	6	4	2	1	3	5	7
J	9	7	5	3	1	2	4	6	8	0	8	8	4	2	1	3	5	7
K	9	1	5	3	1	2	4	6	8	0	8	6	4	2	1	3	5	7
L	9	7	5	3	1	2	4	6	6	0	8	6	4	2	1	3	5	7

Escriba tres palabras que contengan cuatro veces la letra E como única vocal.

Sume los dígitos de los cuadros inferiores y con los números obtenidos realice una nueva suma y escriba su resultado final.

2	3	4	5	1
---	---	---	---	---

6	7	8	2	0
---	---	---	---	---

7	3	4	3	5
---	---	---	---	---

6	3	1	8	9
---	---	---	---	---

4	2	7	0	5
---	---	---	---	---

Ficha_de_trabajo_2017_semana43_C

En las palabras de la derecha falta una letra con respecto a la de su izquierda. Escriba cual en la columna central y con todas ellas forme un verbo. _____

D I C T A N D O
P A R L A B A N
E C O N O M Í A
A P O D E R E N
R E C O R T A R
A P A L A N C O

C Á N D I D O
P A L A B R A
E M O C I Ó N
P E D Á N E O
C A R T E R O
P A L A N C A

Tache los números duplicados del 50 al 80. ¿Cuántos hay? _____

50	11	18	24	65	15	46	76	24	52	16	55	91
85	26	50	25	82	26	65	48	34	27	81	34	32
70	38	46	28	52	41	91	55	28	76	42	19	80
19	64	17	48	12	64	82	11	34	15	79	12	30
12	88	70	27	25	83	35	61	26	83	17	88	80
35	72	44	81	61	24	79	88	26	72	16	91	27

Empieza por C. ¿Qué es?

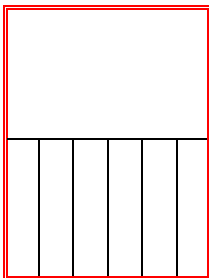
Tierra pisada por donde se transita habitualmente. _____

Ficha_de_trabajo_2017_semana43_D


Escriba 15 palabras que acaben en el, como mantel.

¿Cuál de los cuadros inferiores completa el cuarto lugar de esta serie: A, B, C o D?

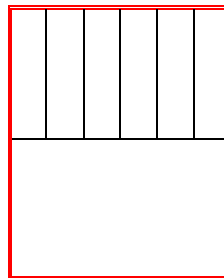
1°




2°




3°




4°




A




B



C



D



Sabiendo que D vale 6, F vale 7 y H vale 8,
¿cuál es el resultado de multiplicar D x F y restarle H?
